

Т.В. РЯЗАНОВА, О.Г. РЯЗАНОВ

# ИСТОРИЯ

РАБОТА С ИЛЛЮСТРАТИВНЫМ  
МАТЕРИАЛОМ

ПОСОБИЕ ДЛЯ ПОДГОТОВКИ К **ЕГЭ**

ПОД РЕДАКЦИЕЙ С.А. МАРКИНА



Справочники

**Т.В. Рязанова, О.Г. Рязанов**

# **ИСТОРИЯ**

---

---

**Работа с иллюстративным материалом**

**Пособие для подготовки к ЕГЭ**

**Под редакцией С.А. Маркина**

РОСТОВ-НА-ДОНУ



2018

УДК 373.167.1:94(47)

ББК 63.3(2)я7

КТК 442

Р99

*Под редакцией С. А. Маркина*

**Рязанова Т.В.**

**Р99** История. Работа с иллюстративным материалом : пособие для подготовки к ЕГЭ / Т.В. Рязанова, О.Г. Рязанов ; под редакцией С.А. Маркина. — Ростов н/Д : Феникс, 2018. — 239 с.: ил. — (Справочники).

ISBN 978-5-222-29290-7

Пособие является универсальным подспорьем в процессе формирования и совершенствования у учеников базовых знаний и умений работы с иллюстративным материалом, которые обеспечат успешную сдачу Единого государственного экзамена (ЕГЭ) по истории.

Пособие включает иллюстративный материал по всем периодам отечественной истории, что поможет ученикам систематизировать имеющиеся знания и, в случае необходимости, своевременно восполнить обнаружившиеся пробелы.

Предназначено как для учащихся средней школы при подготовке к ЕГЭ по курсу «История России», так и для преподавателей истории общеобразовательных учреждений при организации изучения данного курса и его повторения и обобщения.

ISBN 978-5-222-29290-7

УДК 373.167.1:94(47)

ББК 63.3(2)я7

© Рязанова Т.В., Рязанов О.Г., 2017

© Оформление: ООО «Феникс», 2017

## СОДЕРЖАНИЕ

Предисловие .....	4
Раздел 1. Рекомендации по выполнению заданий на анализ иллюстративного материала (№ 18 и 19) .....	5
Раздел 2. Тренировочные задания .....	8
Русь в IX–X вв. ....	8
Русь в XI–XII вв. ....	16
Русь в XIII в. ....	24
Русь в XIV в. ....	28
Русь в XV в. ....	30
Россия в XVI в. ....	34
Россия в XVII в. ....	44
Россия в XVIII в. ....	64
Россия в XIX в. ....	100
Россия в XX в. ....	138
Россия в XXI в. ....	230
Ответы на тренировочные задания .....	234
Литература .....	235
Учебная и монографическая литература .....	235
Интернет-ресурсы .....	235

# ПРЕДИСЛОВИЕ

Пособие содержит варианты тестовых заданий по истории России для 10–11-х классов в формате ЕГЭ, направленных на выработку умения анализировать иллюстративный материал (задания № 18 и 19 КИМ ЕГЭ).

В контрольно-измерительные материалы (КИМ) ЕГЭ могут быть включены задания, где нужно проанализировать такие объекты, как памятники архитектуры, живописи и скульптуры или изобразительные источники — фотопортреты, плакаты, исторические картины, а также предметы, относящиеся к тому или иному историческому периоду: монеты, медали, значки и т. п.

Задания разработаны в соответствии с обязательным минимумом содержания среднего (полного) общего образования по истории, кодификатором элементов основного содержания для составления КИМ ЕГЭ 2017 г. по истории. При составлении данного пособия были использованы открытые варианты КИМ ЕГЭ 2017 г. и учтена вариативность использования в общеобразовательных учреждениях различных УМК по истории, утвержденных в Федеральном перечне учебников, рекомендованных Министерством образования и науки Российской Федерации к использованию в образовательном процессе в общеобразовательных учреждениях.

Задания составлены по основным темам курса истории России для 10–11-х классов и могут быть использованы для самостоятельной работы на уроках, организации текущего контроля и подготовки учащихся к ЕГЭ. К заданиям даны ответы.

Структура и содержание материалов пособия соответствуют структуре заданий № 18 и 19 КИМ ЕГЭ 2017 г.

В первом разделе пособия даны методические рекомендации по выполнению заданий № 18 и 19.

Во втором разделе представлены тренировочные задания по основным периодам и темам курса истории России.

## РАЗДЕЛ 1

### РЕКОМЕНДАЦИИ ПО ВЫПОЛНЕНИЮ ЗАДАНИЙ НА АНАЛИЗ ИЛЛЮСТРАТИВНОГО МАТЕРИАЛА (№18 И 19)

*Рассмотрите изображение и выполните задания 18 и 19.*



**18.** Какие суждения о данной марке являются верными? Выберите два суждения из пяти предложенных. Запишите в таблицу цифры, под которыми они указаны.

- 1) Военный деятель, изображенный на марке, подвергся репрессиям.
- 2) Военный деятель, изображенный на марке, родился в период правления в России Николая II.
- 3) События, изображенные на марке стрелками, произошли в ходе Первой мировой войны.
- 4) Военный деятель, изображенный на марке, был участником Великой Отечественной войны.
- 5) Данная марка была выпущена в период руководства СССР Н.С. Хрущева.

Ответ: 

--	--

Для выполнения задания № 18 в нашем примере необходимо выбрать из числа предложенных два суждения, которые относятся к почтовой марке, приведенной в КИМ ЕГЭ. Для выделения верных суждений необходимо внимательно изучить марку. Как мы видим, марка изображает М.Н. Тухачевского на фоне карты боевых действий.

Проанализируем приведенные суждения.

В суждении под номером 1 говорится: «*Военный деятель, изображенный на марке, подвергся репрессиям*». Чтобы ответить на вопрос, верно ли данное суждение, достаточно посмотреть на марку, где справа от портрета М.Н. Тухачевского приведены годы его жизни: 1893–1937. В 1937 г. в СССР действительно проводились репрессии в отношении части высшего командного состава Красной Армии, подозреваемой в подготовке военного переворота с целью захвата власти. М.Н. Тухачевский в 1937 г. был арестован и расстрелян. Следовательно, данное суждение является верным.

Далее рассмотрим суждение под номером 2: «*Военный деятель, изображенный на марке, родился в период правления в России Николая II*». Чтобы ответить на вопрос, верно ли данное суждение, вновь достаточно посмотреть на марку, где справа от портрета М.Н. Тухачевского приведены годы его жизни: 1893–1937. Николай II, как известно, начал править в Российской империи в 1894 г. Как мы видим, М.Н. Тухачевский родился раньше. Следовательно, данное суждение является неверным.

Проверяем суждение под номером 3: «*События, изображенные на марке стрелками, произошли в ходе Первой мировой войны*». Сражения Первой мировой войны происходили на таких территориях Российской империи, как Прибалтика, Польша, Западная Украина, Закавказье. Уфа, как известно, находится на Южном Урале. Следовательно, данное суждение является неверным.

Проверяем суждение под номером 4: «*Военный деятель, изображенный на марке, был участником Великой Отечественной войны*». Чтобы ответить на вопрос, верно ли данное суждение, вновь достаточно посмотреть на марку, где справа от портрета М.Н. Тухачевского приведены годы его жизни: 1893–1937. Великая Отечественная война, как известно, началась 22 июня 1941 г., через четыре года после смерти М.Н. Тухачевского. Следовательно, данное суждение является неверным.

Проверяем суждение под номером 5: «*Данная марка была выпущена в период руководства СССР Н.С. Хрущева*». Чтобы ответить на вопрос, верно ли данное суждение, вновь достаточно посмотреть на марку, где слева от портрета М.Н. Тухачевского приведен год выпуска марки: 1963. Н.С. Хрущев, как известно, руководил Советским Союзом в 1954–1964 гг. Следовательно, данное суждение является верным.

Вносим в таблицу ответа на задание № 18 цифры: 1 и 5.

Перейдем к выполнению задания № 19.

**19.** Какие из представленных монет посвящены юбилеям событий, произошедших при жизни военного деятеля, изображенного на марке? В ответе запишите две цифры, которыми обозначены эти монеты.

1)



2)



3)



4)



Ответ:

--	--

Для выполнения задания № 19 необходимо определить, когда происходили события, в честь юбилеев которых были выпущены монеты, представленные в КИМ ЕГЭ.

Монета под номером 1 была выпущена в честь 20-летия Победы в Великой Отечественной войне, которая была достигнута в 1945 г., а годы жизни М.Н. Тухачевского — 1893–1937. Следовательно, монета под номером 1 посвящена событию, произошедшему после смерти М.Н. Тухачевского.

Монета под номером 2 была выпущена в честь постройки железной дороги Санкт-Петербург — Царское Село в 1837 г., а годы жизни М.Н. Тухачевского — 1893–1937. Следовательно, монета под номером 2 посвящена событию, произошедшему до рождения М.Н. Тухачевского.

Монета под номером 3 была выпущена в честь 100-летия начала работы Государственной думы, которое произошло в 1906 г., а годы жизни М.Н. Тухачевского — 1893–1937. Следовательно, монета под номером 3 посвящена событию, произошедшему при жизни М.Н. Тухачевского.

Монета под номером 4 была выпущена в честь образования СССР, которое произошло в 1922 г. Годы жизни М.Н. Тухачевского — 1893–1937. Следовательно, монета под номером 4 посвящена событию, произошедшему при жизни М.Н. Тухачевского.

Вносим в таблицу ответа на задание № 19 цифры: 3 и 4.



## РАЗДЕЛ 2

### ТРЕНИРОВОЧНЫЕ ЗАДАНИЯ

Вариант 1

*Рассмотрите изображение и выполните задания 18 и 19.*






**18.** Какие суждения о картине являются верными? Выберите два суждения из пяти предложенных. Запишите в таблицу цифры, под которыми они указаны.

- 1) На картине изображен момент призвания варягов на княжение в северные русские земли.
- 2) Один из изображенных на картине варягов является основателем Русского государства.
- 3) Братьев-варягов, изображенных на картине, пригласил новгородский староста Гостомысл.
- 4) Сыном старшего из изображенных на картине братьев-варягов был будущий князь Олег Вещий.
- 5) Событие, изображенное на картине, произошло в 882 г.


Ответ:

19. Какие из представленных ниже изображений посвящены событиям, происходившим в том же веке, что и событие, изображенное на картине? В ответе запишите две цифры, которыми обозначены эти изображения.



Ответ:

Рассмотрите изображение и выполните задания 18 и 19.



**18.** Какие суждения о картине являются верными? Выберите два суждения из пяти предложенных. Запишите в таблицу цифры, под которыми они указаны.

- 1) Событие, изображенное на картине, произошло в 911 г.
- 2) Изображенный на картине князь воевал с Византийской империей.
- 3) Изображенный в центре картины князь включил в состав единого Русского государства племя вятичей.
- 4) У изображенного на картине князя было прозвище «Старый».
- 5) Князь, изображенный на картине, ввел на Руси христианство.

Ответ: 

--	--

19. Какие из представленных ниже изображений посвящены событиям, происходившим в том же веке, что и событие, изображенное на картине? В ответе запишите две цифры, которыми обозначены эти изображения.



Ответ:

Рассмотрите изображение и выполните задания 18 и 19.



**18.** Какие суждения о картине являются верными? Выберите два суждения из пяти предложенных. Запишите в таблицу цифры, под которыми они указаны.

- 1) Событие, изображенное на картине, произошло в 945 г.
- 2) Изображенный на картине князь воевал с Хазарским каганатом.
- 3) Изображенный в центре картины князь включил в состав единого Русского государства племя вятичей.
- 4) У изображенного на картине князя было прозвище «Святой».
- 5) Князь, изображенный на картине, взошел на престол в результате междоусобицы.

Ответ: 

--	--

19. Какие из представленных ниже изображений посвящены событиям, происходившим в том же веке, что и событие, изображенное на картине? В ответе запишите две цифры, которыми обозначены эти изображения.

1)




2)



3)




4)



Ответ:

Рассмотрите изображение и выполните задания 18 и 19.



**18.** Какие суждения о картине являются верными? Выберите два суждения из пяти предложенных. Запишите в таблицу цифры, под которыми они указаны.

- 1) Событие, изображенное на картине, произошло в 972 г.
- 2) Изображенный в центре картины князь воевал с Византийской империей.
- 3) Изображенный в центре картины князь воевал с кочевниками-половцами.
- 4) У изображенного на картине князя было прозвище «Святой».
- 5) Князь, изображенный на картине, взошел на престол в результате междоусобицы.

Ответ: 

--	--


19. Какие из представленных ниже изображений посвящены событиям, происходившим в том же веке, что и событие, изображенное на картине? В ответе запишите две цифры, которыми обозначены эти изображения.



1)



2)



3)



4)

Ответ:



Рассмотрите изображение и выполните задания 18 и 19.



**18.** Какие суждения об изображенном государственном деятеле являются верными? Выберите два суждения из пяти предложенных. Запишите в таблицу цифры, под которыми они указаны.

- 1) Изображенный князь до получения титула великого князя правил в Новгородской земле.
- 2) Изображенный князь убил своего отца, чтобы стать великим князем.
- 3) Данное скульптурное изображение выполнено в XIX веке.
- 4) Изображенный князь активно использовал такой политический инструмент, как династические браки
- 5) Правление изображенного князя относится ко второй половине XII века.


Ответ:

19. Какие из зданий, представленных ниже, были построены в годы руководства страной государственного деятеля, изображенного на скульптурном портрете? В ответе запишите две цифры, которыми обозначены эти изображения.


1)




2)



3)



4)



Ответ:

Рассмотрите изображение и выполните задания 18 и 19.



**18.** Какие суждения о приведенном скульптурном изображении являются верными? Выберите два суждения из пяти предложенных. Запишите в таблицу цифры, под которыми они указаны.

- 1) Изображенный князь был убит в ходе войны с половцами.
- 2) Изображенный князь правил во Владимирской земле.
- 3) Изображенный князь имел прозвище «Большое гнездо».
- 4) Изображенный князь активно участвовал в русских междоусобицах периода политической раздробленности.
- 5) Правление этого князя относится ко второй половине XII века.

Ответ: 

--	--

19. Какие из представленных монет посвящены городам, основанным государственным деятелем, чей памятник представлен в задании? В ответе запишите две цифры, которыми обозначены эти изображения.

1)



2)



3)



4)



Ответ:

Рассмотрите изображение и выполните задания 18 и 19.







**18.** Какие суждения о приведенном скульптурном изображении являются верными? Выберите два суждения из пяти предложенных. Запишите в таблицу цифры, под которыми они указаны.

- 1) Изображенный князь был убит в результате заговора.
- 2) Изображенный князь правил в Новгородской земле.
- 3) Данное скульптурное изображение выполнено советским ученым М.М. Герасимовым.
- 4) Изображенный князь не участвовал в русских междоусобицах периода политической раздробленности.
- 5) Правление этого князя относится ко второй половине XI века.

Ответ: 

--	--

19. Какие из зданий, представленных ниже, были построены в годы руководства страной государственного деятеля, изображенного на скульптурном портрете? В ответе запишите две цифры, которыми обозначены эти изображения.



Ответ:

Рассмотрите изображение и выполните задания 18 и 19.



**18.** Какие суждения о приведенной картине являются верными? Выберите два суждения из пяти предложенных. Запишите в таблицу цифры, под которыми они указаны.

- 1) Изображенное на картине событие относится к периоду политической раздробленности Руси.
- 2) Князь, возглавлявший изображенный на картине поход, правил в Новгород-Северской земле.
- 3) Князь, возглавлявший изображенный на картине поход, погиб в бою.
- 4) Изображенный на картине поход закончился разгромом половцев.
- 5) Изображенное на картине событие относится к первой половине XII века.

Ответ: 

--	--

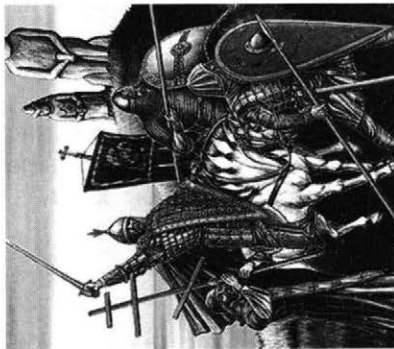
19. Какие из представленных ниже изображений посвящены событиям того же века, что и событие, изображенное на картине? В ответе запишите две цифры, которыми обозначены эти изображения.



1)



2)



3)




4)

Ответ:



Рассмотрите изображение и выполните задания 18 и 19.




**18.** Какие суждения о приведенной картине являются верными? Выберите два суждения из пяти предложенных. Запишите в таблицу цифры, под которыми они указаны.

- 1) Изображенное на картине событие произошло накануне битвы на реке Калке.
- 2) Противниками русских дружин в изображенном сражении были половцы.
- 3) Во время событий, изображенных на картине, великим князем Владимирским был Юрий Всеволодович.
- 4) Изображенное на картине событие относится ко второй половине XIII века.
- 5) Изображенное на картине событие произошло в ходе борьбы с нашествием монголо-татар на русские земли.

Ответ: 

--	--

19. Какие из представленных ниже изображений посвящены событиям, произошедшим в том же веке, что и событие, изображенное на картине. В ответе запишите две цифры, которыми обозначены эти изображения.



1)



2)



3)



4)

Ответ:

Рассмотрите изображение и выполните задания 18 и 19.



**18.** Какие суждения о приведенной картине являются верными? Выберите два суждения из пяти предложенных. Запишите в таблицу цифры, под которыми они указаны.

- 1) Изображенное на картине событие происходило во времена полюдья.
- 2) Изображенное событие относится к началу периода политической раздробленности.
- 3) В то время, когда происходили изображенные на картине события, великим князем киевским являлся Владимир Мономах.
- 4) Изображенное на картине событие впервые произошло на Руси во второй половине XIII века.
- 5) Изображенному на картине событию предшествовала перепись населения русских земель.

Ответ:

--	--

19. Какие из изображений, представленных ниже, посвящены событиям того же века, что и событие, изображенное на картине? В ответе запишите две цифры, которыми обозначены эти изображения.



1)



2)



3)



4)

Ответ:

Рассмотрите изображение и выполните задания 18 и 19.



**18.** Какие суждения о приведенной картине являются верными? Выберите два суждения из пяти предложенных. Запишите в таблицу цифры, под которыми они указаны.

- 1) Изображенное на картине событие относится к XIV веку.
- 2) Изображенное на картине событие относится к войне Москвы с Великим княжеством Литовским.
- 3) Современником князя, изображенного на картине, был хан Золотой Орды Батый.
- 4) В битве, канун которой изображен на картине, противником русского войска были татары.
- 5) Изображенный на картине князь носил прозвище «Гордый».

Ответ: 

--	--


19. Какие из изображений, представленных ниже, посвящены событиям того же века, что и событие, изображенное на картине? В ответе запишите две цифры, которыми обозначены эти изображения.



1)



2)



3)



4)

Ответ:

Рассмотрите изображение и выполните задания 18 и 19.



**18.** Какие суждения о приведенной картине являются верными? Выберите два суждения из пяти предложенных. Запишите в таблицу цифры, под которыми они указаны.

- 1) Изображенное на картине событие относится к XIV веку.
- 2) Изображенное на картине событие относится к правлению Ивана III.
- 3) Князь, в правление которого произошло событие, изображенное на картине, сделал гербом государства двуглавого орла.
- 4) Изображенное на картине событие относится к началу периода политической раздробленности.
- 5) Князь, в правление которого произошло изображенное на картине событие, получил впоследствии прозвище «Грозный».

Ответ: 

--	--

19. Какие из изображений, представленных ниже, посвящены событиям периода правления князя, к которому относится событие, изображенное на картине? В ответе запишите две цифры, которыми обозначены эти изображения.



1)

2)



3)


4)



Ответ:



Рассмотрите изображение и выполните задания 18 и 19.



**18.** Какие суждения о приведенном портрете являются верными? Выберите два суждения из пяти предложенных. Запишите в таблицу цифры, под которыми они указаны.

- 1) Правление князя, изображенного на портрете, относится к первой трети XVI в.
- 2) Князь, изображенный на портрете, имел прозвище «Темный».
- 3) Князь, изображенный на портрете, происходил из рода князей Гедиминовичей.
- 4) Князь, изображенный на портрете, ликвидировал зависимость русских земель от Большой Орды.
- 5) В годы правления князя, изображенного на портрете, произошло объединение русских княжеств и земель.

Ответ: 

--	--

19. Какие из представленных ниже зданий были построены в годы руководства страной государственного деятеля, изображенного на портрете? В ответе запишите две цифры, которыми обозначены эти изображения.



Ответ:

Рассмотрите изображение и выполните задания 18 и 19.






**18.** Какие суждения о приведенном портрете являются верными? Выберите два суждения из пяти предложенных. Запишите в таблицу цифры, под которыми они указаны.

- 1) Правление князя, изображенного на портрете, относится к первой трети XVI в.
- 2) Князь, изображенный на портрете, был отцом Ивана Грозного.
- 3) Князь, изображенный на портрете, происходил из рода князей Гедиминовичей.
- 4) Князь, изображенный на портрете, правил менее 10 лет.
- 5) В годы правления князя, изображенного на портрете, в России началось проведение церковной реформы.


Ответ:

19. Какие из представленных ниже зданий были построены в годы руководства страной государственного деятеля, изображенного на портрете? В ответе запишите две цифры, которыми обозначены эти изображения.



Ответ:

Рассмотрите изображение и выполните задания 18 и 19.




**18.** Какие суждения о приведенном скульптурном портрете являются верными? Выберите два суждения из пяти предложенных. Запишите в таблицу цифры, под которыми они указаны.

- 1) Правление княгини, изображенной на скульптурном портрете, относится к XV веку.
- 2) Княгиня, изображенная на портрете, была матерью Ивана Грозного.
- 3) Княгиня, изображенная на портрете, происходила из рода князей Гедиминовичей.
- 4) Княгиня, изображенная на портрете, правила более 10 лет.
- 5) В годы правления княгини, изображенной на портрете, в России началось проведение губной реформы.

Ответ: 

--	--

19. Какие из представленных ниже портретов принадлежат современникам княгини, изображенной на скульптурном портрете? В ответе запишите две цифры, которыми обозначены эти изображения.



Ответ:

Рассмотрите изображение и выполните задания 18 и 19.



**18.** Какие суждения о приведенной картине являются верными? Выберите два суждения из пяти предложенных. Запишите в таблицу цифры, под которыми они указаны.

- 1) Событие, изображенное на картине, относится к середине XVI в.
- 2) На картине изображен царь Василий III.
- 3) Событие, изображенное на картине, произошло в период политической раздробленности.
- 4) Царь, изображенный на картине, находился на троне более 50 лет.
- 5) В годы правления царя, изображенного на картине, произошло воссоединение Украины с Россией.

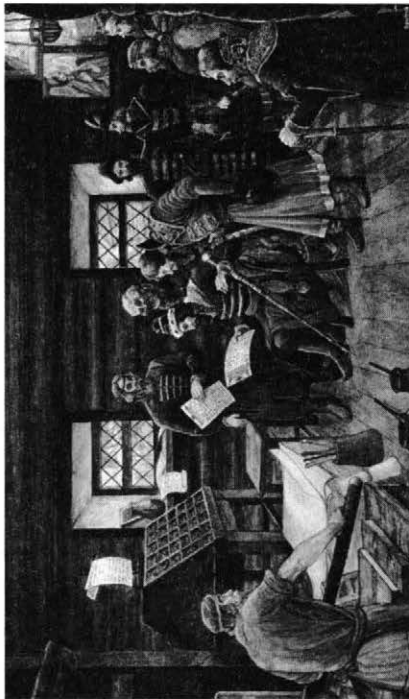
Ответ: 

--	--

19. Какие из изображений, представленных ниже, посвящены событиям периода правления царя, изображенного на представленной в задании картине? В ответе запишите две цифры, которыми обозначены эти изображения.




1)



2)



3)



4)

Ответ:



Рассмотрите изображение и выполните задания 18 и 19.




**18.** Какие суждения о приведенной картине являются верными? Выберите два суждения из пяти предложенных. Запишите в таблицу цифры, под которыми они указаны.

- 1) Событие, изображенное на картине, относится к царствованию Федора Ивановича.
- 2) На картине изображены участники восстания под руководством Степана Разина.
- 3) По итогам события, изображенного на картине, к России были присоединены новые территории.
- 4) Событие, изображенное на картине, относится к концу XVI в.
- 5) Событие, изображенное на картине, относится во времени проведения политики опричнины.

Ответ: 

--	--

19. Какие из изображений, представленных ниже, посвящены событиям, произошедшим в те же годы, что и событие, на представленной в задании картине? В ответе запишите две цифры, которыми обозначены эти изображения.



1)



2)



3)



4)

Ответ:

--	--

Вариант 18

Рассмотрите изображение и выполните задания 18 и 19.



**18.** Какие суждения о приведенной картине являются верными? Выберите два суждения из пяти предложенных. Запишите в таблицу цифры, под которыми они указаны.


- 1) Событие, изображенное на картине, стало одной из причин Смутного времени.
- 2) На картине изображен сын Бориса Годунова.
- 3) По итогам события, изображенного на картине, в России закончилось правление московской ветви династии Рюриковичей.
- 4) Событие, изображенное на картине, произошло в середине XVI в.
- 5) В один год с событием, изображенным на картине, состоялся набег на Москву орды крымских татар хана Казы-Гирея.

Ответ: 

--	--

19. Какие из изображений, представленных ниже, посвящены периоду, одной из причин которого стало событие на представленной в задании картине? В ответе запишите две цифры, которыми обозначены эти изображения.

1)



2)



43

3)



4)



Ответ:

--	--

Рассмотрите изображение и выполните задания 18 и 19.





18. Какие суждения о приведенной картине являются верными? Выберите два суждения из пяти предложенных. Запишите в таблицу цифры, под которыми они указаны.

- 1) Изображенный на гравюре правитель являлся сыном Бориса Годунова.
- 2) На гравюре изображен самозванец, выдававший себя за сына Ивана Грозного.
- 3) Изображенный на гравюре правитель стал первым русским царем из династии Романовых.
- 4) Изображенный на гравюре правитель властвовал в России в начале XVII в.
- 5) На гравюре изображен московский царь, избранный Земским собором.

Ответ:

--	--

19. Какие из представленных портретов принадлежат современникам правителя, изображенного на представленном в задании портрете? В ответе запишите две цифры, которыми обозначены эти изображения.



Ответ:

Рассмотрите изображение и выполните задания 18 и 19.






**18.** Какие суждения о приведенном изображении являются верными? Выберите два суждения из пяти предложенных. Запишите в таблицу цифры, под которыми они указаны.

- 1) На портрете изображен Василий Шуйский.
- 2) На портрете изображен самозванец, выдававший себя за сына Ивана Грозного.
- 3) Изображенный на портрете правитель стал первым русским царем из династии Романовых.
- 4) Изображенный на портрете правитель властвовал в России во второй половине XVII в.
- 5) На портрете изображен московский царь, избранный Земским собором.

Ответ:

19. Какие из представленных портретов принадлежат современникам правителя, изображенного на представленном в задании портрете? В ответе запишите две цифры, которыми обозначены эти изображения.



Ответ:



Рассмотрите изображение и выполните задания 18 и 19.






**18.** Какие суждения о приведенной картине являются верными? Выберите два суждения из пяти предложенных. Запишите в таблицу цифры, под которыми они указаны.

- 1) Изображенный на портрете царь лишился власти в результате стрелецкого бунта.
- 2) На портрете изображен последний русский царь из династии Романовых.
- 3) В годы правления царя, изображенного на портрете, в России произошло восстание под руководством С. Разина.
- 4) В годы правления царя, изображенного на портрете, Россия присоединила территорию Аляски.
- 5) В годы правления царя, изображенного на портрете, было заключено Андрусовское перемирие с Речью Посполитой.

Ответ: 

--	--

19. Какие из архитектурных памятников, представленных ниже, были созданы в годы правления царя, чей портрет приведен в задании? В ответе запишите две цифры, которыми обозначены эти изображения.



Ответ:

Рассмотрите изображение и выполните задания 18 и 19.






**18.** Какие суждения о приведенной картине являются верными? Выберите два суждения из пяти предложенных. Запишите в таблицу цифры, под которыми они указаны.

- 1) В годы правления царя, изображенного на портрете, было заключено Андрусовское перемирие с Речью Посполитой.
- 2) На портрете изображен первый русский царь из династии Романовых.
- 3) В годы правления царя, изображенного на портрете, в России произошли пять крупных народных восстаний.
- 4) В годы правления царя, изображенного на портрете, состоялся поход Ермака в Сибирь.
- 5) В годы правления царя, изображенного на портрете, в России было создано стрелецкое войско.

Ответ: 


--	--

19. Какие из представленных ниже портретов принадлежат современникам правителя, изображенного на приведенном в задании портрете? В ответе запишите две цифры, которыми обозначены эти изображения.



Ответ:

Рассмотрите изображение и выполните задания 18 и 19.



**18.** Какие суждения о приведенной картине являются верными? Выберите два суждения из пяти предложенных. Запишите в таблицу цифры, под которыми они указаны.

- 1) На картине изображен стрелецкий бунт во время правления Петра I.
- 2) Одним из последствий события, изображенного на картине, стала ликвидация «белых слобод».
- 3) Одним из последствий события, изображенного на картине, стала отмена медных денег.
- 4) Изображенное на картине событие относится к городским восстаниям периода правления Алексея Михайловича.
- 5) На картине изображено восстание под руководством И. Болотникова против Василия Шуйского в годы Смуты.

Ответ:

--	--


**19.** Какие из изображений, представленных ниже, посвящены событиям периода правления царя, при котором произошло событие, изображенное на представленной в задании картине? В ответе запишите две цифры, которыми обозначены эти изображения.




1)



2)



3)



4)

Ответ:

Рассмотрите изображение и выполните задания 18 и 19.




**18.** Какие суждения о приведенной картине являются верными? Выберите два суждения из пяти предложенных. Запишите в таблицу цифры, под которыми они указаны.

- 1) Изображенное на картине событие стало одной из причин Смуты в России.
- 2) На картине показаны споры перед введением христианства на Руси.
- 3) На картине изображен царь из династии Романовых.
- 4) Следствием события, изображенного на картине, стали народные восстания.
- 5) Событие, изображенное на картине, относится к XVI в.

Ответ:

--	--

19. Какие из изображений, представленных ниже, посвящены событиям, непосредственно связанным с событием, изображенным на представленной в задании картине? В ответе запишите две цифры, которыми обозначены эти изображения.



1)



2)



3)



4)

Ответ:



Рассмотрите изображение и выполните задания 18 и 19.






**18.** Какие суждения о приведенной картине являются верными? Выберите два суждения из пяти предложенных. Запишите в таблицу цифры, под которыми они указаны.

- 1) Изображенный на портрете царь пришел к власти в результате стрелецкого бунта.
- 2) На портрете изображен последний русский царь, правивший в годы Смуты.
- 3) В годы правления царя, изображенного на портрете, Россия заключила Бахчисарайский мирный договор с Турцией.
- 4) В годы правления царя, изображенного на портрете, Россия отвоевала земли, захваченные Швецией в годы Смуты.
- 5) В годы правления царя, изображенного на портрете, в России было отменено местничество.

Ответ: 

--	--

19. Какие из изображений, представленных ниже, посвящены событиям, произошедшим в годы правления царя, изображенного на портрете? В ответе запишите две цифры, которыми обозначены эти изображения.



Ответ:

Рассмотрите изображение и выполните задания 18 и 19.




18. Какие суждения о приведенной картине являются верными? Выберите два суждения из пяти предложенных. Запишите в таблицу цифры, под которыми они указаны.

- 1) Изображенная на портрете государыня пришла к власти в результате стрелецкого бунта.
- 2) Изображенная на портрете государыня правила в годы Смуты.
- 3) В годы правления государыни, изображенной на портрете, Россия заключила Поляновский мирный договор с Речью Посполитой.
- 4) В годы правления государыни, изображенной на портрете, в России было ликвидировано старообрядчество.
- 5) Изображенная на портрете государыня являлась регентшей при своих формально правивших младших братьях.

Ответ:

19. Какие из представленных ниже портретов принадлежат современникам правительницы, изображенной на представленном в задании портрете? В ответе запишите две цифры, которыми обозначены эти изображения.



Ответ:

Рассмотрите изображение и выполните задания 18 и 19.



**18.** Какие суждения о приведенной картине являются верными? Выберите два суждения из пяти предложенных. Запишите в таблицу цифры, под которыми они указаны.

- 1) Изображенное на картине событие относится к началу самостоятельного правления Петра I.
- 2) Изображенное на картине событие произошло во время Прутского похода.
- 3) По итогам события, изображенного на картине, Россия заключила «Вечный мир» с Речью Посполитой.
- 4) Изображенное на картине событие произошло в ходе борьбы России за выход к Черному морю.
- 5) Изображенное на картине событие произошло во время Северной войны.

Ответ: 

--	--

19. Какие из изображений, представленных ниже, посвящены событиям, произошедшим в то же десятилетие, что и событие, изображенное на гравюре? В ответе запишите две цифры, которыми обозначены эти изображения.

1)



2)



3)



4)



Ответ:

Рассмотрите изображение и выполните задания 18 и 19.



**18.** Какие суждения о приведенной картине являются верными? Выберите два суждения из пяти предложенных. Запишите в таблицу цифры, под которыми они указаны.

- 1) Изображенное на картине событие относится к началу самостоятельного правления Петра I.
- 2) Изображенное на картине событие произошло во время Персидского похода.
- 3) По итогам события, изображенного на картине, Россия заключила «Вечный мир» с Речью Посполитой.
- 4) Изображенное на картине событие произошло во время войны России с Турцией за выход к Черному морю.
- 5) Изображенное на картине событие произошло во время Северной войны.

Ответ: 

--	--

19. Какие из изображений, представленных ниже, представляют предметы, появившиеся в то же десятилетие, когда произошло событие, изображенное на картине? В ответе запишите две цифры, которыми обозначены эти изображения.

1)



2)



3)



4)



Ответ:



*Рассмотрите изображение и выполните задания 18 и 19.*



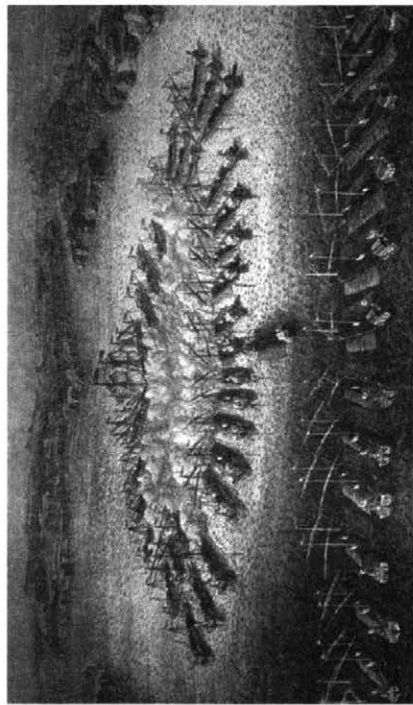
**18.** Какие суждения о приведенной картине являются верными? Выберите два суждения из пяти предложенных. Запишите в таблицу цифры, под которыми они указаны.

- 1) Изображенное на картине событие относится к периоду регентства Софьи Алексеевны при несовершеннолетних Иване V и Петре I.
- 2) Изображенное на картине событие стало переломным моментом Северной войны.
- 3) Одним из последствий события, изображенного на картине, было подписание перемирия со Швецией.
- 4) Изображенное на картине событие произошло в ходе борьбы России за выход к Черному морю.
- 5) Одним из последствий события, изображенного на картине, была война с Турцией.

Ответ: 

--	--

19. Какие из изображений, представленных ниже, посвящены событиям, произошедшим в то же десятилетие, что и событие, изображенное на гравюре? В ответе запишите две цифры, которыми обозначены эти изображения.



Ответ:

Рассмотрите изображение и выполните задания 18 и 19.



**18.** Какие суждения о приведенной картине являются верными? Выберите два суждения из пяти предложенных. Запишите в таблицу цифры, под которыми они указаны.

- 1) Изображенное на картине событие относится к середине XVIII в.
- 2) Изображенное на картине событие произошло в начале Северной войны.
- 3) Накануне события, изображенного на картине, был подписан Ништадтский мир со Швецией.
- 4) Изображенное на картине событие произошло в ходе войны 1733–1735 гг. за «польское наследство».
- 5) Одним из последствий события, изображенного на картине, было лишение Москвы статуса столицы России.

Ответ: 

--	--

19. Какие из изображений, представленных ниже, посвящены событиям, произошедшим в тот же исторический период, что и событие, изображенное на картине? В ответе запишите две цифры, которыми обозначены эти изображения.



1)



2)




3)



4)

Ответ:

Рассмотрите изображение и выполните задания 18 и 19.



**18.** Какие суждения о приведенной картине являются верными? Выберите два суждения из пяти предложенных. Запишите в таблицу цифры, под которыми они указаны.

- 1) В годы правления государя, изображенного на картине, Россия стала колониальной империей.
- 2) В годы правления государя, изображенного на картине, Россия утратила выход к Каспийскому морю.
- 3) В годы правления государя, изображенного на картине, было составлено руководство о правилах хорошего тона и поведения в обществе «Юности честное зеркало».
- 4) В годы правления государя, изображенного на картине, Россия получила выход к Балтийскому морю.
- 5) В годы правления государя, изображенного на картине, была отменена обязательная служба дворян.

Ответ: 

--	--

19. Какие из портретов, представленных ниже, изображают современников государя, чей портрет представлен в задании? В ответе запишите две цифры, которыми обозначены эти изображения.

1)



2)



3)



4)



Ответ:

Рассмотрите изображение и выполните задания 18 и 19.





**18.** Какие суждения о приведенной картине являются верными? Выберите два суждения из пяти предложенных. Запишите в таблицу цифры, под которыми они указаны.

- 1) В годы правления государя, изображенного на картине, в России стали проводиться дворянские ассамблеи.
- 2) В годы правления государя, изображенного на картине, Россия присоединила западное и южное побережье Каспийского моря.
- 3) В годы правления государя, изображенного на картине, было составлено руководство о правилах ведения хозяйства «Домострой».
- 4) В годы правления государя, изображенного на картине, Россия утратила выход к Балтийскому морю.
- 5) В годы правления государя, изображенного на картине, была учреждена Славяно-греко-латинская академия.

Ответ: 

--	--

19. Какие из архитектурных памятников, представленных ниже, были созданы в годы правления государя, чей портрет представлен в задании? В ответе запишите две цифры, которыми обозначены эти изображения.



Ответ:



Рассмотрите изображение и выполните задания 18 и 19.






**18.** Какие суждения о приведенной картине являются верными? Выберите два суждения из пяти предложенных. Запишите в таблицу цифры, под которыми они указаны.

- 1) В годы правления государыни, изображенной на портрете, в России стали проводиться дворянские ассамблеи.
- 2) В годы правления государыни, изображенной на портрете, в России был создан Верховный тайный совет.
- 3) В годы правления государыни, изображенной на портрете, в России была открыта Академия наук.
- 4) В годы правления государыни, изображенной на портрете, Россия вела войну со Швецией, пытавшейся вернуть территории, утраченные по Ништадтскому миру.
- 5) Государыня, изображенная на портрете, приходилась дочерью Петру I.

Ответ:

19. Какие из портретов, представленных ниже, изображают современников государя, чей портрет представлен в задании? В ответе запишите две цифры, которыми обозначены эти изображения.



Ответ:

Рассмотрите изображение и выполните задания 18 и 19.



**18.** Какие суждения о приведенной картине являются верными? Выберите два суждения из пяти предложенных. Запишите в таблицу цифры, под которыми они указаны.

- 1) В годы правления государя, изображенного на портрете, срок службы дворян был уменьшен до 25 лет.
- 2) В годы правления государя, изображенного на портрете, императорский двор переехал из Петербурга в Москву.
- 3) В годы правления государя, изображенного на портрете, в России был упразднен Синод.
- 4) В годы правления государя, изображенного на портрете, Россия вела войну со Швецией, пытавшейся вернуть территории, утраченные по Ништадтскому миру.
- 5) Государь, изображенный на портрете, приходился Петру I внуком.

Ответ:

19. Какие из изображений, представленных ниже, посвящены событиям, произошедшим в годы правления государя, чей портрет приведен в задании? В ответе запишите две цифры, которыми обозначены эти изображения.




1)



2)



3)



4)

Ответ:

Рассмотрите изображение и выполните задания 18 и 19.



**18.** Какие суждения о приведенной картине являются верными? Выберите два суждения из пяти предложенных. Запишите в таблицу цифры, под которыми они указаны.

- 1) В годы правления государыни, изображенной на портрете, была отменена обязательная служба дворян.
- 2) В годы правления государыни, изображенной на портрете, был учрежден Шляхетский корпус.
- 3) Правление государыни, изображенной на портрете, пришлось на вторую половину XVIII в.
- 4) В годы правления государыни, изображенной на портрете, Россия вела войну с Турцией, чтобы получить выход к Черному морю.
- 5) Фаворитом государыни, изображенной на портрете, был Г.А. Потемкин.

Ответ: 

--	--

19. Какие из портретов, представленных ниже, изображают современников государыни, чей портрет представлен в задании? В ответе запишите две цифры, которыми обозначены эти изображения.



Ответ:

Рассмотрите изображение и выполните задания 18 и 19.



**18.** Какие суждения о приведенной картине являются верными? Выберите два суждения из пяти предложенных. Запишите в таблицу цифры, под которыми они указаны.

- 1) В начале царствования императора, изображенного на портрете, регентом был Э.И. Бирон.
- 2) В начале царствования императора, изображенного на портрете, в России произошел очередной дворцовый переворот.
- 3) Царствование императора, изображенного на портрете, пришлось на вторую половину XVIII в.
- 4) Во время царствования императора, изображенного на портрете, Россия вела войну с Турцией, чтобы получить выход к Черному морю.
- 5) Фаворитом императора, изображенного на портрете, был И. Долгорукий.


Ответ:

**19.** На каких портретах представлены современники государя, чей портрет представлен в задании? В ответе запишите две цифры, которыми обозначены эти изображения.

1)



2)



3)



4)



Ответ:



Рассмотрите изображение и выполните задания 18 и 19.






**18.** Какие суждения о приведенной картине являются верными? Выберите два суждения из пяти предложенных. Запишите в таблицу цифры, под которыми они указаны.

- 1) В начале правления императрицы, изображенной на портрете, был распущен Кабинет министров.
- 2) Императрица, изображенная на портрете, была свергнута в результате дворцового переворота.
- 3) В годы правления императрицы, изображенной на портрете, в России произошло восстание под руководством Е.И. Пугачева.
- 4) В годы правления императрицы, изображенной на портрете, в России были отменены внутренние таможенные пошлины.
- 5) Фаворитом императрицы, изображенной на портрете, был А.Г. Орлов.

Ответ: 

--	--

19. Какие из архитектурных памятников, представленных ниже, были созданы в годы правления императрицы, чей портрет представлен в задании? В ответе запишите две цифры, которыми обозначены эти изображения.



Ответ:

Рассмотрите изображение и выполните задания 18 и 19.





**18.** Какие суждения о приведенной картине являются верными? Выберите два суждения из пяти предложенных. Запишите в таблицу цифры, под которыми они указаны.

- 1) В начале правления императрицы, изображенной на портрете, был распущен Верховный тайный совет.
- 2) Императрица, изображенная на портрете, приходилась внучкой царю Ивану V.
- 3) В годы правления императрицы, изображенной на портрете, помещики получили право ссылать крестьян в Сибирь с зачетом вместо рекрутов.
- 4) В годы правления императрицы, изображенной на портрете, в России был учрежден Сенат.
- 5) Фаворитом императрицы, изображенной на портрете, был И.И. Шувалов.

Ответ: 

--	--

19. На каких портретах представлены современники императрицы, чей портрет представлен в задании? В ответе запишите две цифры, которыми обозначены эти изображения.



Ответ:

Рассмотрите изображение и выполните задания 18 и 19.



**18.** Какие суждения о приведенной картине являются верными? Выберите два суждения из пяти предложенных. Запишите в таблицу цифры, под которыми они указаны.

- 1) Император, изображенный на портрете, отменил обязательную службу дворян.
- 2) Император, изображенный на портрете, продолжил военные действия против Пруссии в ходе Семилетней войны.
- 3) Император, изображенный на портрете, прекратил преследования старообрядцев.
- 4) Император, изображенный на портрете, учредил в России парламент по образцу британского.
- 5) Фаворитом императора, изображенного на портрете, был И. Долгорукий.

Ответ: 

--	--

19. На каких портретах представлены современники императора, чей портрет представлен в задании? В ответе запишите две цифры, которыми обозначены эти изображения.



Ответ:

Рассмотрите изображение и выполните задания 18 и 19.





**18.** Какие суждения о приведенной картине являются верными? Выберите два суждения из пяти предложенных. Запишите в таблицу цифры, под которыми они указаны.

- 1) В начале правления императрицы, изображенной на портрете, был реформирован Сенат.
- 2) Императрица, изображенная на портрете, происходила из рода немецких князей Ангальт-Цербстских.
- 3) В годы правления императрицы, изображенной на портрете, у помещиков была выкуплена большая часть крепостных крестьян.
- 4) В годы правления императрицы, изображенной на портрете, в России была учреждена Академия наук.
- 5) В годы правления императрицы, изображенной на портрете, Россия продала США Аляску.

Ответ: 

--	--


19. На каких портретах представлены современники императрицы, чей портрет представлен в задании? В ответе запишите две цифры, которыми обозначены эти изображения.



Ответ:



Рассмотрите изображение и выполните задания 18 и 19.



18. Какие суждения о приведенной картине являются верными? Выберите два суждения из пяти предложенных. Запишите в таблицу цифры, под которыми они указаны.

- 1) Событие, изображенное на картине, произошло во второй половине XVIII в.
- 2) Событие, изображенное на картине, произошло вскоре после подавления восстания под руководством Е.И. Пугачева.
- 3) Событие, изображенное на картине, произошло в начале царствования Екатерины II.
- 4) На картине изображено заседание Правительствующего сената после реформы 1763 г.
- 5) На картине изображено заседание комиссии по выработке нового Уложения законов.

Ответ: 

--	--

19. Какие из событий на представленных ниже изображениях случились в годы правления императрицы, что и событие на представленной картине? В ответе запишите две цифры, которыми обозначены эти изображения.



1)



2)



3)



4)

Ответ:

Рассмотрите изображение и выполните задания 18 и 19.



**18.** Какие суждения о приведенной картине являются верными? Выберите два суждения из пяти предложенных. Запишите в таблицу цифры, под которыми они указаны.

- 1) Событие, изображенное на картине, произошло во второй половине XVIII в.
- 2) Событие, изображенное на картине, произошло вскоре после проведения в Российской империи губернской реформы.
- 3) Событие, изображенное на картине, произошло во время русско-шведской войны.
- 4) На картине изображен самозванец, выдававший себя за императора Петра III.
- 5) На картине изображено событие, произошедшее в годы Смутного времени.

Ответ:

--	--

19. Какие из событий на представленных ниже изображениях случились в годы правления императрицы, что и событие на представленной картине? В ответе запишите две цифры, которыми обозначены эти изображения.



1)



2)




3)



4)

Ответ:

Рассмотрите изображение и выполните задания 18 и 19.



**18.** Какие суждения о приведенной картине являются верными? Выберите два суждения из пяти предложенных. Запишите в таблицу цифры, под которыми они указаны.

- 1) В начале правления императрицы, изображенной на портрете, был принят Свод законов Российской империи.
- 2) Императрица, изображенная на портрете, осуществила секуляризацию церковных земель.
- 3) Деятельность императрицы, изображенной на портрете, вошла в историю как политика «контрреформ».
- 4) В годы правления императрицы, изображенной на портрете, Россия возвратила древнерусские земли из состава Киевской Руси.
- 5) В годы правления императрицы, изображенной на портрете, было распущено Вольное экономическое общество.

Ответ: 

--	--

19. Какие из изображенных предметов появились в годы правления императрицы, изображенной на портрете? В ответе запишите две цифры, которыми обозначены эти изображения.

1)



2)



3)




4)



Ответ:

Рассмотрите изображение и выполните задания 18 и 19.




18. Какие суждения о приведенном памятнике являются верными? Выберите два суждения из пяти предложенных. Запишите в таблицу цифры, под которыми они указаны.


- 1) Памятник, изображенный на фото, появился в столице Российской империи во второй половине XVIII в.
- 2) Памятник, изображенный на фото, был поставлен в честь победы в Северной войне.
- 3) Памятник, изображенный на фото, был поставлен в Петербурге незадолго до присоединения Крымского ханства к Российской империи.
- 4) Памятник, изображенный на фото, был создан русским скульптором Ф.И. Шубиным.
- 5) Памятник, изображенный на фото, символизировал выход России на берега Балтийского моря.

Ответ:


19. Какие из архитектурных памятников, представленных ниже, появились в годы правления императрицы, что и памятник, представленный в задании? В ответе запишите две цифры, которыми обозначены эти изображения.




1)



2)



3)



4)

Ответ:



Рассмотрите изображение и выполните задания 18 и 19.



**18.** Какие суждения о приведенном портрете являются верными? Выберите два суждения из пяти предложенных. Запишите в таблицу цифры, под которыми они указаны.

- 1) Император, изображенный на портрете, пришел к власти в результате дворцового переворота.
- 2) Император, изображенный на портрете, восстановил обязательную службу дворян.
- 3) Император, изображенный на портрете, был провозглашен гроссмейстером Мальтийского ордена.
- 4) Император, изображенный на портрете, отменил пошлины на ввозимые английские товары.
- 5) Император, изображенный на портрете, подписал мирный договор с Пруссией, прекративший участие России в Семилетней войне.

Ответ: 

--	--

19. Какие из событий на представленных ниже изображениях случились в годы правления императора, изображенного на портрете? В ответе запишите две цифры, которыми обозначены эти изображения.



1)



2)



3)



4)

Ответ:

Ответ:

Рассмотрите изображение и выполните задания 18 и 19.



**18.** Какие суждения о приведенном портрете являются верными? Выберите два суждения из пяти предложенных. Запишите в таблицу цифры, под которыми они указаны.

- 1) Император, изображенный на портрете, был убит в ходе дворцового переворота.
- 2) Император, изображенный на портрете, установил для крепостных крестьян пятидневную барщину.
- 3) Император, изображенный на портрете, был провозглашен Князем Финляндским.
- 4) Император, изображенный на портрете, отменил пошлины на ввозимые иностранные товары.
- 5) Император, изображенный на портрете, разрешил строить старообрядческие храмы во всех епархиях.

Ответ:

19. Какие из исторических личностей на представленных ниже портретах являются современниками императора, изображенного на портрете? В ответе запишите две цифры, которыми обозначены эти изображения.


1)



2)



3)



4)



Ответ:

Рассмотрите изображение и выполните задания 18 и 19.





**18.** Какие суждения о приведенном портрете являются верными? Выберите два суждения из пяти предложенных. Запишите в таблицу цифры, под которыми они указаны.

- 1) Император, изображенный на портрете, пришел к власти в результате дворцового переворота.
- 2) Император, изображенный на портрете, установил для крепостных крестьян месячину.
- 3) Император, изображенный на портрете, был провозглашен Царем Польским.
- 4) Император, изображенный на портрете, отменил пошлины на ввозимые иностранные товары.
- 5) Император, изображенный на портрете, официально установил в Российской империи равенство всех религиозных конфессий.

Ответ: 


--	--

19. Какие из военных деятелей на представленных ниже портретах являются современниками императора, изображенного на портрете? В ответе запишите две цифры, которыми обозначены эти изображения.



Ответ:

Рассмотрите изображение и выполните задания 18 и 19.



**18.** Какие суждения о приведенном изображении являются верными? Выберите два суждения из пяти предложенных. Запишите в таблицу цифры, под которыми они указаны.

- 1) На картине изображены члены неофициального совещательного органа при императоре в начале XIX в.
- 2) На картине изображены члены неофициального совещательного органа, установившего для крепостных крестьян шестидневную барщину.
- 3) На картине изображены члены неофициального совещательного органа, подготовившего проект создания Государственного совета.
- 4) На картине изображен император Александр I.
- 5) На картине изображены члены неофициального совещательного органа, разработавшего проект отмены в России крепостного права.

Ответ: 



--	--

19. Какие из государственных деятелей на представленных ниже портретах провели в России реформы в тот же исторический период, что и люди, изображенные на картине? В ответе запишите две цифры, которыми обозначены эти изображения.

1) 2)



3) 4)



Ответ:



Рассмотрите изображение и выполните задания 18 и 19.



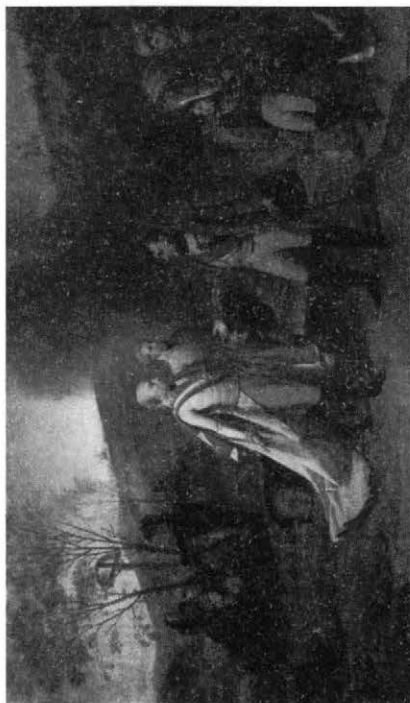
**18.** Какие суждения о приведенном изображении являются верными? Выберите два суждения из пяти предложенных. Запишите в таблицу цифры, под которыми они указаны.

- 1) Изображенное на картине событие относится к началу XIX в.
- 2) На картине изображено событие, завершившее Заграничный поход русской армии.
- 3) Одним из последствий события, изображенного на картине, стало присоединение России к Континентальной блокаде.
- 4) На картине изображен император Павел I.
- 5) На картине изображено начало переговоров, завершивших русско-иранскую войну.


Ответ: 

--	--

**19.** Какие из событий на представленных ниже изображениях случились в то же десятилетие, что и событие, изображенное на картине? В ответе запишите две цифры, которыми обозначены эти изображения.



1)



2)




3)



4)

Ответ:

Рассмотрите изображение и выполните задания 18 и 19.





**18.** Какие суждения о приведенном изображении являются верными? Выберите два суждения из пяти предложенных. Запишите в таблицу цифры, под которыми они указаны.

- 1) Изображенное на картине событие относится к периоду правления императора Павла I.
- 2) На картине изображена попытка членов тайных обществ захватить власть вскоре после смерти императора Александра I.
- 3) Одним из последствий события, изображенного на картине, стало учреждение в России Третьего отделения императорской канцелярии.
- 4) На картине изображен бунт в военном поселении во второй четверти XIX в.
- 5) Одним из последствий события, изображенного на картине, стало учреждение Государственного совета.

Ответ: 


--	--

19. Какие из исторических личностей на представленных портретах являлись непосредственными участниками события, изображенного на картине? В ответе запишите две цифры, которыми обозначены эти изображения.



Ответ:

Рассмотрите изображение и выполните задания 18 и 19.



**18.** Какие суждения о приведенном изображении являются верными? Выберите два суждения из пяти предложенных. Запишите в таблицу цифры, под которыми они указаны.


- 1) Событие, изображенное на картине, относится к началу царствования Александра I.
- 2) Изображение рассказывает о первом русском кругосветном путешествии.
- 3) Изображенные на картине корабли носили названия «Восток» и «Мирный».
- 4) Событие, изображенное на картине, относится ко второй четверти XIX в.
- 5) Изображенными на картине кораблями командовали Ф.Ф. Беллинсгаузен и М.П. Лазарев.

Ответ: 

--	--

19. Какие из представленных ниже изображений посвящены событиям периода правления императора, что и событие на картине, представленной в задании? В ответе запишите две цифры, которыми обозначены эти изображения.

1)



2)



3)




4)



Ответ:

*Рассмотрите изображение и выполните задания 18 и 19.*




**18.** Какие суждения о приведенном изображении являются верными? Выберите два суждения из пяти предложенных. Запишите в таблицу цифры, под которыми они указаны.

- 1) Период правления изображенного на портрете императора относится ко второй четверти XIX в.
- 2) В период правления изображенного на портрете императора было открыто Вольное экономическое общество.
- 3) В период правления изображенного на портрете императора была завершена Крымская война.
- 4) В период правления изображенного на портрете императора была принята Конституция царства Польского.
- 5) В период правления изображенного на портрете императора русские войска участвовали в подавлении венгерской революции.

Ответ: 

--	--


19. Какие из исторических личностей на представленных ниже изображениях являлись современниками императора, изображенного на портрете? В ответе запишите две цифры, которыми обозначены эти изображения.



Ответ:



Рассмотрите изображение и выполните задания 18 и 19.



**18.** Какие суждения о приведенном изображении являются верными? Выберите два суждения из пяти предложенных. Запишите в таблицу цифры, под которыми они указаны.

- 1) Событие, изображенное на картине, относится к началу царствования Александра I.
- 2) Изображение рассказывает о завершении работы по кодификации российского законодательства в первой половине XIX в.
- 3) Событие, изображенное на картине, относится к периоду Отечественной войны 1812 г.
- 4) Событие, изображенное на картине, относится к периоду Крымской войны.
- 5) На картине изображен видный российский реформатор первой половины XIX в. М.М. Сперанский.

Ответ: 


--	--

19. Какие из событий на представленных ниже изображениях относятся к периоду правления того же императора, что и событие, изображенное на картине? В ответе запишите две цифры, которыми обозначены эти изображения.



1)

2)




3)

4)



Ответ:

Рассмотрите изображение и выполните задания 18 и 19.




**18.** Какие суждения о приведенном изображении являются верными? Выберите два суждения из пяти предложенных. Запишите в таблицу цифры, под которыми они указаны.

- 1) Период правления изображенного на портрете императора относится ко второй половине XIX в.
- 2) В период правления изображенного на портрете императора было открыто Российское историческое общество.
- 3) В период правления изображенного на портрете императора была завершена Кавказская война.
- 4) В период правления изображенного на портрете императора была отменена Конституция царства Польского.
- 5) В период правления изображенного на портрете императора была проведена инвентарная реформа.

Ответ:

19. Какие из военачальников на представленных ниже изображениях являлись современниками императора, изображенного на портрете? В ответе запишите две цифры, которыми обозначены эти изображения.



Ответ:

Рассмотрите изображение и выполните задания 18 и 19.




**18.** Какие суждения о приведенном изображении являются верными? Выберите два суждения из пяти предложенных. Запишите в таблицу цифры, под которыми они указаны.

- 1) Событие, изображенное на картине, относится к началу XIX в.
- 2) Изображение рассказывает о событии периода борьбы России за выход к Черному морю.
- 3) Событие, изображенное на картине, относится к периоду правления Николая I.
- 4) Событие, изображенное на картине, относится к периоду русско-турецкой войны 1828–1829 гг.
- 5) На картине изображено взятие русскими войсками крепости Измаил.

Ответ: 

--	--

19. Какие из событий на представленных ниже изображениях относятся к периоду правления того же императора, что и событие, изображенное на картине? В ответе запишите две цифры, которыми обозначены эти изображения.



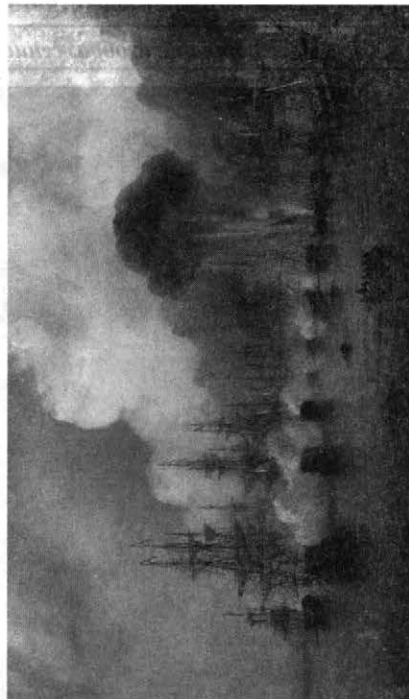
1)



2)



3)



4)

Ответ:

Рассмотрите изображение и выполните задания 18 и 19.



**18.** Какие суждения о приведенном изображении являются верными? Выберите два суждения из пяти предложенных. Запишите в таблицу цифры, под которыми они указаны.

- 1) Период правления изображенного на портрете императора относится к началу XIX в.
- 2) В период правления изображенного на портрете императора была создана Собственная его императорского величества канцелярия.
- 3) В период правления изображенного на портрете императора в России была проведена первая промышленная выставка.
- 4) В период правления изображенного на портрете императора был учрежден Святейший синод.
- 5) В период правления изображенного на портрете императора к России была присоединена Финляндия.

Ответ: 

--	--

**19.** Какие из исторических личностей на представленных ниже изображениях являлись современниками императора, изображенного на портрете? В ответе запишите две цифры, которыми обозначены эти изображения.



Ответ:



Рассмотрите изображение и выполните задания 18 и 19.



**18.** Какие суждения о приведенном изображении являются верными? Выберите два суждения из пяти предложенных. Запишите в таблицу цифры, под которыми они указаны.

- 1) Период правления изображенного на портрете императора относится к началу XX в.
- 2) В период правления изображенного на портрете императора была отменена рекрутская повинность.
- 3) В период правления изображенного на портрете императора в России была проведена первая сельскохозяйственная выставка.
- 4) В период правления изображенного на портрете императора Россия продала США Аляску.
- 5) В период правления изображенного на портрете императора к России было присоединено царство Польское.

Ответ:

19. Какие из исторических личностей на представленных ниже изображениях являлись современниками императора, изображенного на портрете? В ответе запишите две цифры, которыми обозначены эти изображения.



Ответ:

Рассмотрите изображение и выполните задания 18 и 19.



**18.** Какие суждения о приведенном изображении являются верными? Выберите два суждения из пяти предложенных. Запишите в таблицу цифры, под которыми они указаны.

- 1) Изображенное на картине событие относится к 60-м годам XIX в.
- 2) На картине изображено чтение императорского манифеста об отмене подушной подати.
- 3) На картине изображено объявление итогов голосования на выборах в Государственную думу Российской империи.
- 4) На картине изображено чтение императорского манифеста об объявлении войны Японии.
- 5) Император, в период правления которого произошло изображенное на картине событие, получил прозвище «Освободитель».

Ответ: 

--	--

19. Какие из исторических личностей на представленных ниже изображениях имели непосредственное отношение к событию, изображенному на картине? В ответе запишите две цифры, которыми обозначены эти изображения.

1)



2)



3)



4)



Ответ:

Рассмотрите изображение и выполните задания 18 и 19.



**18.** Какие суждения о приведенном изображении являются верными? Выберите два суждения из пяти предложенных. Запишите в таблицу цифры, под которыми они указаны.

- 1) Изображенный на портрете император пережил несколько покушений на свою жизнь.
- 2) В период правления изображенного на портрете императора была проведена Всероссийская перепись населения.
- 3) В период правления изображенного на портрете императора в состав России вошла Грузия.
- 4) В период правления изображенного на портрете императора в России была создана система городского самоуправления.
- 5) Изображенный на портрете император получил прозвище «Гатчинский пленник».

Ответ:

19. Какие из представленных ниже изображений отражают события, происходившие в период правления императора изображенного на картине? В ответе запишите две цифры, которыми обозначены эти изображения.




1)



2)



3)



4)

Ответ:

Рассмотрите изображение и выполните задания 18 и 19.



18. Какие суждения о приведенном изображении являются верными? Выберите два суждения из пяти предложенных. Запишите в таблицу цифры, под которыми они указаны.

- 1) Изображенное на картине событие относится к началу 80-х гг. XIX в.
- 2) На картине изображено покушение на императора Александра III.
- 3) На картине изображено событие периода первой русской революции.
- 4) На картине изображено событие начала Февральской революции.
- 5) Император, на которого было организовано нападение, изображенное на картине, получил прозвище «Освободитель».

Ответ: 

--	--

19. Какие из исторических личностей на представленных ниже изображениях имели непосредственное отношение к событию, изображенному на картине? В ответе запишите две цифры, которыми обозначены эти изображения.

1)



2)



3)




4)



Ответ:



Рассмотрите изображение и выполните задания 18 и 19.



**18.** Какие суждения о приведенном изображении являются верными? Выберите два суждения из пяти предложенных. Запишите в таблицу цифры, под которыми они указаны.

- 1) Представленный на изображении памятник был установлен в конце 70-х гг. XIX в.
- 2) Представленный на изображении памятник был установлен в честь тысячелетия призвания варягов.
- 3) Представленный на изображении памятник установлен на одной из площадей Петербурга.
- 4) Представленный на изображении памятник был установлен накануне начала Первой мировой войны.
- 5) Представленный на изображении памятник был изготовлен под руководством скульптора М.И. Микешина.

Ответ:

19. Какие из представленных монет посвящены юбилеям событий, произошедших в годы правления императора, при котором был установлен памятник, изображенный на фото? В ответе запишите две цифры, которыми обозначены эти изображения.

1)



2)



3)



4)



Ответ:

--	--

Рассмотрите изображение и выполните задания 18 и 19.



**18.** Какие суждения о приведенном изображении являются верными? Выберите два суждения из пяти предложенных. Запишите в таблицу цифры, под которыми они указаны.

- 1) Император, изображенный на картине, установил вассальную зависимость (протекторат) Российской империи над Урянхайским краем.
- 2) Император, изображенный на картине, стал инициатором проведения международной конференции по разоружению.
- 3) Император, изображенный на картине, стал инициатором заключения военного союза с Францией.
- 4) Император, изображенный на картине, погиб в результате покушения.
- 5) Император, изображенный на картине, царствовал 13 лет.

Ответ: 


--	--

19. Какие из зданий на представленных ниже изображениях были построены в годы правления императора, изображенного на портрете? В ответе запишите две цифры, которыми обозначены эти изображения.


1)




2)



3)



4)



Ответ:

*Рассмотрите изображение и выполните задания 18 и 19.*



**18.** Какие суждения о приведенном изображении являются верными? Выберите два суждения из пяти предложенных. Запишите в таблицу цифры, под которыми они указаны.

- 1) Император, изображенный на картине, подписал договор об установлении границы Российской империи с Китаем.
- 2) Император, изображенный на картине, стал инициатором работы русско-английской комиссии по демаркации границы России и Афганистана.
- 3) Император, изображенный на картине, стал инициатором образования Тройственного союза.
- 4) Император, изображенный на картине, получил в начале своего правления прозвище «гатчинский пленник».
- 5) Император, изображенный на картине, проводил политику активного вмешательства в отношения между балканскими государствами.

Ответ: 

--	--

19. Какие из исторических личностей на представленных ниже изображениях являлись крупными государственными деятелями в годы правления императора, изображенного на портрете? В ответе запишите две цифры, которыми обозначены эти изображения.

1)



2)



3)



4)



Ответ:

Рассмотрите изображение и выполните задания 18 и 19.




**18.** Какие суждения о приведенном изображении являются верными? Выберите два суждения из пяти предложенных. Запишите в таблицу цифры, под которыми они указаны.

- 1) Приведенная карикатура появилась в последнем десятилетии XIX в.
- 2) Приведенная карикатура посвящена подавлению восстания тайпинов в Китае.
- 3) После того, как появилась данная карикатура, между Россией и Китаем был заключен союзный договор.
- 4) На приведенной карикатуре изображен последний российский император.
- 5) Приведенная карикатура отображает события периода Первой мировой войны.


Ответ: 

--	--

19. Какие из событий на представленных ниже изображениях произошли в годы правления императора, изображенного на приведенной в задании карикатуре? В ответе запишите две цифры, которыми обозначены эти изображения.



1)



2)



3)



4)

Ответ:



*Рассмотрите изображение и выполните задания 18 и 19.*



**18.** Какие суждения о приведенном изображении являются верными? Выберите два суждения из пяти предложенных. Запишите в таблицу цифры, под которыми они указаны.


- 1) Император, изображенный на картине, ограничил автономию Финляндии.
- 2) Император, изображенный на картине, стал инициатором созыва конференции по разоружению.
- 3) Император, изображенный на картине, стал инициатором заключения союзного договора с Францией.
- 4) Император, изображенный на картине, значительно уменьшил полномочия органов местного самоуправления.
- 5) Император, изображенный на картине, царствовал 25 лет.

Ответ: 

--	--

19. Какие из изображений, представленных ниже, посвящены событиям, произошедшим в первые годы правления императора, портрет которого представлен в задании? В ответе запишите две цифры, которыми обозначены эти изображения.

1)



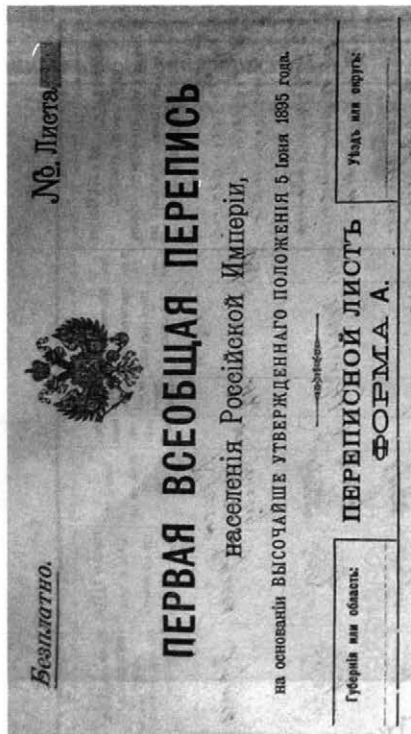
2)



3)




4)



Ответ:

Рассмотрите изображение и выполните задания 18 и 19.



**18.** Какие суждения о приведенном изображении являются верными? Выберите два суждения из пяти предложенных. Запишите в таблицу цифры, под которыми они указаны.

- 1) Приведенная картина посвящена беспорядкам, случившимся в день коронации Николая II.
- 2) Приведенная картина посвящена началу первой русской революции.
- 3) Приведенное изображение относится к событию последнего десятилетия XIX в.
- 4) Одним из участников события, изображенного на картине, был священник Г.А. Гапон.
- 5) Приведенная картина отображает события кануна начала Первой мировой войны.

Ответ: 

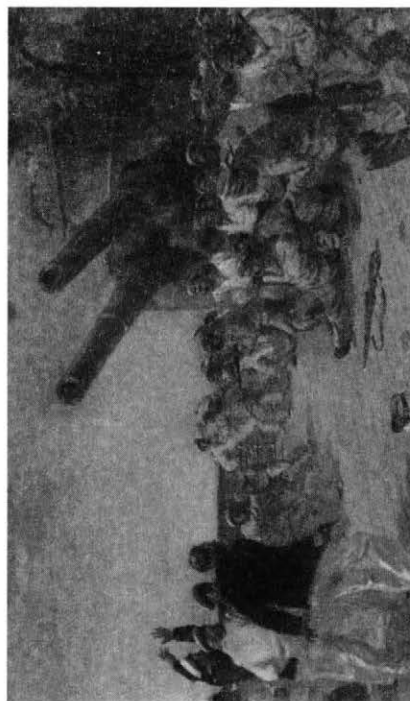
--	--

19. Какие из изображений, представленных ниже, посвящены событиям, произошедшим в тот же период, что и событие на картине, представленной в задании? В ответе запишите две цифры, которыми обозначены эти изображения.



1)

2)



3)

4)



Ответ:

Рассмотрите изображение и выполните задания 18 и 19.





**18.** Какие суждения о приведенном изображении являются верными? Выберите два суждения из пяти предложенных. Запишите в таблицу цифры, под которыми они указаны.

- 1) Император, изображенный на картине, расширил автономию Великого княжества Финляндского.
- 2) Император, изображенный на картине, стал инициатором созыва Лиги Наций.
- 3) Император, изображенный на картине, стал инициатором заключения союзного договора с Японией.
- 4) Император, изображенный на картине, ввел в России продразверстку.
- 5) Император, изображенный на картине, царствовал более 20 лет.

Ответ:

**19.** Какие из исторических личностей на представленных ниже изображениях являлись крупными государственными деятелями в годы правления императора, изображенного на портрете? В ответе запишите две цифры, которыми обозначены эти изображения.



Ответ:

Рассмотрите изображение и выполните задания 18 и 19.



**18.** Какие суждения о приведенном изображении являются верными? Выберите два суждения из пяти предложенных. Запишите в таблицу цифры, под которыми они указаны.

- 1) Приведенный плакат относится к событию последнего десятилетия XIX в.
- 2) Приведенный плакат посвящен столетию Отечественной войны 1812 г.
- 3) Приведенный плакат посвящен событию, произошедшему в годы правления последнего российского императора.
- 4) Приведенное изображение посвящено формированию военно-политического Тройственного союза.
- 5) Приведенный плакат появился в годы Первой мировой войны.

Ответ: 

--	--

**19.** Какие из военачальников на представленных ниже изображениях занимали должность верховного главнокомандующего русской армии в годы войны, которой посвящен плакат, представленный в задании? В ответе запишите две цифры, которыми обозначены эти изображения.



Ответ:



Рассмотрите изображение и выполните задания 18 и 19.





**18.** Какие суждения о приведенном изображении являются верными? Выберите два суждения из пяти предложенных. Запишите в таблицу цифры, под которыми они указаны.

- 1) Приведенная карикатура посвящена такому явлению, как «распутинщина».
- 2) Приведенная карикатура посвящена роспуску Государственной думы в 1906 г.
- 3) Одним из проявлений отображенного на карикатуре положения дел стала «министерская чехарда».
- 4) Приведенная карикатура посвящена событиям периода русско-японской войны.
- 5) Приведенный плакат появился в годы Гражданской войны.

Ответ: 

--	--

19. Какие из исторических деятелей на представленных ниже изображениях являлись председателями Совета министров в годы явления, которому посвящена карикатура, представленная в задании? В ответе запишите две цифры, которыми обозначены эти изображения.



Ответ:

Рассмотрите изображение и выполните задания 18 и 19.



**18.** Какие суждения о приведенном изображении являются верными? Выберите два суждения из пяти предложенных. Запишите в таблицу цифры, под которыми они указаны.

- 1) Приведенная фотография отражает события февраля 1917 г. в Российской империи.
- 2) Приведенная фотография отражает события кризиса власти в июле 1917 г.
- 3) Одним из проявлений отображенного на фотографии положения дел стала «министерская чехарда».
- 4) В результате событий, отраженных на фотографии, Россия стала на путь буржуазно-демократических преобразований.
- 5) Приведенная фотография отражает события периода Гражданской войны.

Ответ: 


--	--

19. Какие из изображений, представленных ниже, посвящены событиям, произошедшим в те же дни, что и событие на фотографии, представленной в задании? В ответе запишите две цифры, которыми обозначены эти изображения.


1)



2)



3)



4)

В час учред.  
 3-го Округа - 1917 г.

### Отъ Петроградскаго Совѣта Рабочихъ и Солдатскихъ Депутатовъ. Приказъ № 1.

По гарнизону Петроградскаго Округа вѣсть солдаты гвардіи, арміи, артиллеріи и флота для немедленнаго и точнаго исполненія, а рабочимъ Петрограда для свѣдѣнія.

Совѣтъ Рабочихъ и Солдатскихъ Депутатовъ постановилъ:

- 1) Во вѣсть рождалъ, батальоннаго полка въ Спбурѣ, кавалерійскаго и отдаленныхъ службъ разнаго рода военныхъ управленій и на судахъ военного флота намеренно выбрать комитеты разъ въ сортиръ представителей отъ именихъ чинахъ вышеуказанныхъ воинскихъ частей.
- 2) Во вѣсть комитеты, частотъ, которые еще не выбраны, образовать, а комитеты, которые уже избраны, подтвердить.
- 3) Во вѣсть комитетамъ, которые еще не выбраны, избрать по одному представителю отъ ротъ, батальоновъ и лагерей съ полнымъ доверіемъ и полномочіемъ въ члены Государственной Думы къ 10 ч. 10-го сего марта.

Ответ:

Рассмотрите изображение и выполните задания 18 и 19.



**18.** Какие суждения о приведенном изображении являются верными? Выберите два суждения из пяти предложенных. Запишите в таблицу цифры, под которыми они указаны.

- 1) Приведенная картина иллюстрирует события февраля 1917 г. в Российской империи.
- 2) Приведенная картина иллюстрирует события октября 1917 г. в Российской республике.
- 3) Одним из последствий отображенного на картине события стала «продразверстка».
- 4) В результате события, отраженного на картине, Россия стала на путь социалистических преобразований.
- 5) Приведенная картина отражает события периода Гражданской войны.

Ответ:



Рассмотрите изображение и выполните задания 18 и 19.



18. Какие суждения о приведенном изображении являются верными? Выберите два суждения из пяти предложенных. Запишите в таблицу цифры, под которыми они указаны.

- 1) Приведенное изображение иллюстрирует события октября 1917 г. в России.
- 2) Приведенное изображение иллюстрирует события декабря 1917 г. в России.
- 3) Политическая партия, чей агитационный плакат приведен в задании, получила наибольшее число голосов на выборах.
- 4) Лидером политической партии, чей агитационный плакат приведен в задании, был В.М. Чернов.
- 5) Политическая партия, чей агитационный плакат приведен в задании, активно выступала против принятия декрета о власти.

Ответ:

19. Какие из изображений, представленных ниже, посвящены работе представительного органа, выборам в который посвящен плакат, представленный в задании? В ответе запишите две цифры, которыми обозначены эти изображения.



1)



2)



3)



4)

Ответ:



Рассмотрите изображение и выполните задания 18 и 19.



**18.** Какие суждения о приведенном изображении являются верными? Выберите два суждения из пяти предложенных. Запишите в таблицу цифры, под которыми они указаны.

- 1) Открытка посвящена событию, произошедшему накануне Великой Октябрьской социалистической революции.
- 2) Открытка посвящена событию, произошедшему во время Первой мировой войны.
- 3) Открытка посвящена событию, произошедшему в начале 1918 года.
- 4) Открытка посвящена событию, произошедшему после выхода России из Первой мировой войны.
- 5) Открытка посвящена событию, произошедшему в период, когда руководителем СССР был И.В. Сталин.

Ответ: 

--	--

19. Какие из фото, представленных ниже, посвящены событиям, произошедшим в том же году, что и событие, которому посвящена открытка, представленная в задании? В ответе запишите две цифры, которыми обозначены эти изображения.




1)



2)




3)



4)

Ответ:

Рассмотрите изображение и выполните задания 18 и 19.




**18.** Какие суждения о приведенном изображении являются верными? Выберите два суждения из пяти предложенных. Запишите в таблицу цифры, под которыми они указаны.

- 1) Плакат появился накануне Великой Октябрьской социалистической революции.
- 2) Плакат появился во время Гражданской войны.
- 3) Плакат был создан для привлечения граждан в армию в годы советско-польской войны 1919–1921 гг.
- 4) Плакат был создан для привлечения граждан в армию в годы Первой мировой войны.
- 5) Автором плаката является художник Д. Моор.

Ответ:

19. Какие из изображений, представленных ниже, посвящены событиям, произошедшим в том же историческом периоде, в котором появился плакат, представленный в задании? В ответе запишите две цифры, которыми обозначены эти изображения.



Ответ:

Рассмотрите изображение и выполните задания 18 и 19.





**18.** Какие суждения о приведенном изображении являются верными? Выберите два суждения из пяти предложенных. Запишите в таблицу цифры, под которыми они указаны.

- 1) Плакат призывает к борьбе против иностранных интервентов.
- 2) Плакат появился во время Гражданской войны.
- 3) Плакат был создан для привлечения граждан в армию в годы Первой мировой войны.
- 4) Плакат был создан для привлечения граждан в армию в годы советско-польской войны 1919–1921 гг.
- 5) Во время появления плаката главным фронтом Гражданской войны в России был Восточный.

Ответ:

19. Какие из полководцев, чьи изображения представлены ниже, принимали участие в боевых действиях в районе, указанном на плакате, представленном в задании? В ответе запишите две цифры, которыми обозначены эти изображения.



Ответ:

Рассмотрите изображение и выполните задания 18 и 19.



**18.** Какие суждения о приведенном изображении являются верными? Выберите два суждения из пяти предложенных. Запишите в таблицу цифры, под которыми они указаны.

- 1) Плакат был создан для привлечения граждан в армию в годы Первой мировой войны.
- 2) Плакат появился во время Гражданской войны, в 1919 г.
- 3) Плакат призывает к борьбе против иностранных интервентов во время Гражданской войны.
- 4) Плакат был создан для привлечения граждан в армию в годы советско-польской войны 1919-1921 гг.
- 5) Во время появления плаката главным фронтом Гражданской войны в России был Южный.

Ответ:

19. Какие из полководцев, чьи изображения представлены ниже, воевали с противником, указанным на плакате, представленном в задании? В ответе запишите две цифры, которыми обозначены эти изображения.



Ответ:



Рассмотрите изображение и выполните задания 18 и 19.





**18.** Какие суждения о приведенном изображении являются верными? Выберите два суждения из пяти предложенных. Запишите в таблицу цифры, под которыми они указаны.

- 1) Плакат был создан для привлечения граждан в армию в годы Первой мировой войны.
- 2) Плакат появился во время Гражданской войны, в 1920 г.
- 3) Плакат призывает к борьбе против иностранных интервентов во время Гражданской войны.
- 4) Плакат был создан для привлечения граждан в армию в годы советско-польской войны 1919–1921 гг.
- 5) Во время появления плаката главным фронтом Гражданской войны в России был Крымский.

Ответ: 

--	--

19. Какие из полководцев, чьи изображения представлены ниже, воевали с противником, указанным на плакате, представленном в задании? В ответе запишите две цифры, которыми обозначены эти изображения.



Ответ:

Рассмотрите изображение и выполните задания 18 и 19.



**18.** Какие суждения о приведенном изображении являются верными? Выберите два суждения из пяти предложенных. Запишите в таблицу цифры, под которыми они указаны.

- 1) Плакат был создан для привлечения граждан в армию в годы Первой мировой войны.
- 2) Плакат появился в начале Гражданской войны, в 1918 г.
- 3) Плакат призывает к борьбе против иностранных интервентов во время Гражданской войны.
- 4) Плакат был создан для привлечения граждан в армию в годы советско-польской войны 1919–1921 гг.
- 5) Во время появления плаката главным фронтом Гражданской войны в России был Дальневосточный.

Ответ:

19. Какие из полководцев, чьи изображения представлены ниже, принимали участие в боевых действиях на фронте, указанном на плакате, представленном в задании? В ответе запишите две цифры, которыми обозначены эти изображения.

1)



2)



3)



4)



Ответ:

Рассмотрите изображение и выполните задания 18 и 19.




18. Какие суждения о приведенном изображении являются верными? Выберите два суждения из пяти предложенных. Запишите в таблицу цифры, под которыми они указаны.

- 1) Плакат был создан для агитационной работы среди крестьян в ходе Первой мировой войны.
- 2) Плакат был создан для агитационной работы комитетов бедняков в годы Гражданской войны.
- 3) Плакат был создан в начале 1920-х гг.
- 4) Плакат был создан для привлечения граждан на заводы в годы Гражданской войны 1918-1921 гг.
- 5) Плакат посвящен одному из мероприятий в рамках новой экономической политики.

Ответ:

19. Какие из плакатов, представленных ниже, относятся к тому же историческому периоду, в котором появился плакат, представленный в задании? В ответе запишите две цифры, которыми обозначены эти изображения.

1)



2)



3)



4)



Ответ:

Рассмотрите изображение и выполните задания 18 и 19.




**18.** Какие суждения о приведенном изображении являются верными? Выберите два суждения из пяти предложенных. Запишите в таблицу цифры, под которыми они указаны.

- 1) Событие, в честь юбилея которого была выпущена марка, относится к периоду Гражданской войны.
- 2) Событие, в честь юбилея которого была выпущена марка, относится к периоду Новой экономической политики.
- 3) Событие, в честь юбилея которого была выпущена марка, относится к периоду индустриализации.
- 4) Данная марка была выпущена в период руководства РСФСР В.И. Ленина.
- 5) Данная марка была выпущена в период руководства СССР Ю.В. Андропова.

Ответ:

19. Какие из плакатов, представленных ниже, относятся к тому же десятилетию, что и событие, которому посвящена марка, представленная в задании? В ответе запишите две цифры, которыми обозначены эти изображения.



Ответ:



Рассмотрите изображение и выполните задания 18 и 19.




**18.** Какие суждения о приведенном изображении являются верными? Выберите два суждения из пяти предложенных. Запишите в таблицу цифры, под которыми они указаны.

- 1) Организация, работу которой иллюстрирует представленный плакат, начала работу в период Гражданской войны.
- 2) Организация, работу которой иллюстрирует представленный плакат, начала работу в период Новой экономической политики.
- 3) Организация, работу которой иллюстрирует представленный плакат, начала работу в период индустриализации.
- 4) Данный плакат был выпущен в период руководства РСФСР В.И. Ленина.
- 5) Данный плакат был выпущен в период руководства СССР И.В. Сталина.

Ответ:

19. Какие из изображений, представленных ниже, относятся к тому же периоду, что и плакат, представленный в задании? В ответе запишите две цифры, которыми обозначены эти изображения.



Ответ:

Рассмотрите изображение и выполните задания 18 и 19.



**18.** Какие суждения о приведенном изображении являются верными? Выберите два суждения из пяти предложенных. Запишите в таблицу цифры, под которыми они указаны.

- 1) Плакат был создан для агитационной работы среди рабочих и крестьян в годы Гражданской войны.
- 2) Плакат был создан для агитационной работы комитетов бедняков в годы «военного коммунизма».
- 3) Плакат был создан в конце 1920-х гг.
- 4) Плакат был создан в период руководства СССР И.В. Сталиным.
- 5) Плакат посвящен одному из мероприятий в рамках восстановления народного хозяйства после Великой Отечественной войны.

Ответ: 

--	--

19. Какие из плакатов, представленных ниже, появились в тот же исторический период, что и плакат, представленный в задании? В ответе запишите две цифры, которыми обозначены эти изображения.

1) 2)



3) 4)



Ответ:

Рассмотрите изображение и выполните задания 18 и 19.



18. Какие суждения о приведенном изображении являются верными? Выберите два суждения из пяти предложенных. Запишите в таблицу цифры, под которыми они указаны.

- 1) Плакат был создан для агитационной работы среди рабочих и крестьян в годы новой экономической политики (нэп).
- 2) Плакат был создан в СССР в начале 1930-х гг.
- 3) Плакат был создан в период руководства СССР В.И. Лениным.
- 4) Плакат был создан в период руководства СССР И.В. Сталиным.
- 5) Плакат посвящен одному из мероприятий в рамках восстановления народного хозяйства после Великой Отечественной войны.

Ответ: 

--	--

19. Какие из исторических личностей, представленных ниже, стали широко известны в СССР в период, когда был создан плакат, представленный в задании? В ответе запишите две цифры, которыми обозначены эти изображения.

1) 2)



3) 4)



Ответ:

Рассмотрите изображение и выполните задания 18 и 19.



**18.** Какие суждения о приведенном изображении являются верными? Выберите два суждения из пяти предложенных. Запишите в таблицу цифры, под которыми они указаны.

- 1) На плакате изображен Генеральный комиссар государственной безопасности СССР.
- 2) Плакат посвящен установлению советской власти в Карелии накануне Великой Отечественной войны.
- 3) Плакат был создан в период руководства СССР В.И. Ленина.
- 4) Плакат был создан в СССР в начале 1930-х гг.
- 5) Изображенного на плакате главу НКВД сменил на его должности Л.П. Берия.

Ответ: 

--	--

19. Какие из полководцев, чьи изображения представлены ниже, подверглись репрессиям в период, которому посвящен плакат, представленный в задании? В ответе запишите две цифры, которыми обозначены эти изображения.

1)



2)



3)



4)



Ответ:



Рассмотрите изображение и выполните задания 18 и 19.



**18.** Какие суждения о приведенном изображении являются верными? Выберите два суждения из пяти предложенных. Запишите в таблицу цифры, под которыми они указаны.

- 1) Картина посвящена военному конфликту, в котором советскими войсками командовал Г.К. Жуков.
- 2) Картина посвящена разгрому социалистической революции в Чехословакии в 1920-х гг.
- 3) Картина была создана в период руководства СССР В.И. Ленина.
- 4) Картина посвящена событию второй половины 1930-х гг.
- 5) Одним из последствий события, которому посвящен плакат, стало присоединение Австрии к Германии (аншлюс).

Ответ: 

--	--



Рассмотрите изображение и выполните задания 18 и 19.



**18.** Какие суждения о приведенной фотографии являются верными? Выберите два суждения из пяти предложенных. Запишите в таблицу цифры, под которыми они указаны.

- 1) Фотография посвящена заключению соглашения между Германией, Италией, Францией и Великобританией о разделе Чехословакии.
- 2) Фотография посвящена заключению договора о ненападении между СССР и Германией.
- 3) Фотография, представленная в задании, была сделана в период руководства СССР В.И. Ленина.
- 4) Фотография, представленная в задании, была сделана в конце 1930-х гг.
- 5) Одним из последствий события, которому посвящена фотография, стало присоединение Австрии к Германии (аншлюс).

Ответ: 


--	--

19. Какие из изображений, представленных ниже, посвящены событиям, ставшим прямым следствием договора, подписание которого изображено на фотографии, представленной в задании? В ответе запишите две цифры, которыми обозначены эти изображения.



Ответ:

Рассмотрите изображение и выполните задания 18 и 19.



**18.** Какие суждения о приведенном изображении являются верными? Выберите два суждения из пяти предложенных. Запишите в таблицу цифры, под которыми они указаны.

- 1) Изображенное здание планировалось построить на месте собора Василия Блаженного.
- 2) Изображенное здание – проект Дворца Советов СССР, в итоге не было построено.
- 3) По первоначальному проекту изображенное здание должна была венчать фигура И.В. Сталина.
- 4) Изображенное здание начали строить во второй половине 1940-х гг.
- 5) Для возведения изображенного здания в Москве снесли храм Христа Спасителя.

Ответ: 

--	--

19. Какие из изображений, представленных ниже, посвящены скульптурам тех же лет, что и здание, изображение проекта которого представлено в задании? В ответе запишите две цифры, которыми обозначены эти изображения.

1)



2)



3)



4)



Ответ:

Рассмотрите изображение и выполните задания 18 и 19.





18. Какие суждения о приведенном изображении являются верными? Выберите два суждения из пяти предложенных. Запишите в таблицу цифры, под которыми они указаны.

- 1) Фильм, афиша которого представлена, вышел в прокат после начала Великой Отечественной войны.
- 2) Фильм, афиша которого представлена, был снят режиссером Г. Александровым.
- 3) Фильм, афиша которого представлена, вышел в прокат в начале 1950-х гг.
- 4) В фильме, афиша которого представлена, главную женскую роль сыграла актриса Л. Орлова.
- 5) Главную роль в фильме, афиша которого представлена, сыграла актриса М. Ладынина.

Ответ:


19. Какие из изображений, представленных ниже, посвящены фильмам того же десятилетия, что и изображение, представленное в задании? В ответе запишите две цифры, которыми обозначены эти изображения.



Ответ:



Рассмотрите изображение и выполните задания 18 и 19.





18. Какие суждения о приведенном изображении являются верными? Выберите два суждения из пяти предложенных. Запишите в таблицу цифры, под которыми они указаны.

- 1) Приведенный плакат был создан сразу после начала Второй мировой войны.
- 2) Приведенный плакат был создан сразу после начала советско-финской войны 1939–1940 гг.
- 3) Приведенный плакат был создан в первые дни Великой Отечественной войны.
- 4) Плакат посвящен событию второй половины 1940-х гг.
- 5) Автором приведенного плаката является художник И. Тоидзе.

Ответ: 

--	--

19. Какие из изображений, представленных ниже, посвящены событиям тех же лет, что и плакат, представленный в задании? В ответе запишите две цифры, которыми обозначены эти изображения.



Ответ:

Рассмотрите изображение и выполните задания 18 и 19.



**18.** Какие суждения о приведенном изображении являются верными? Выберите два суждения из пяти предложенных. Запишите в таблицу цифры, под которыми они указаны.

- 1) Картина была создана сразу после начала Второй мировой войны.
- 2) Картина посвящена событию начального периода Великой Отечественной войны.
- 3) Картина была создана в первые дни Великой Отечественной войны.
- 4) Картина посвящена штурму частями Красной Армии линии Маннергейма в начале 1940 г.
- 5) Одним из руководителей боевых действий советских солдат, изображенных на картине, был майор П.М. Гаврилов.

Ответ: 

--	--

19. Какие из изображений, представленных ниже, посвящены событиям того же периода Великой Отечественной войны, что и картина, представленная в задании? В ответе запишите две цифры, которыми обозначены эти изображения.

1) 

ПЬЕМ ВОДУ РОДНОГО ДНЕПРА,  
БУДЕМ ПИТЬ ИЗ ПРУТА, НЕМАНА И БУГА!  
ОЧИСТИМ СОВЕТСКУЮ ЗЕМЛЮ  
ОТ ФАШИСТСКОЙ НЕЧИСТИ!

2) 

**ГРУДЬЮ  
НА ЗАЩИТУ  
ЛЕНИНГРАДА!**

3) 

**ВСТУПАЙТЕ  
В РЯДЫ  
НАРОДНОГО  
ОПОЛЧЕНИЯ!**

4) 

ПЯТИЛЕТНИЙ ПЛАН ВОССТАНОВЛЕНИЯ И РАЗВИТИЯ НАРОДНОГО ХОЗЯЙСТВА СССР НА 1946-1950 гг.  
**ПРОМЫШЛЕННОСТЬ**

РОСЛИ ПРОМЫШЛЕННАЯ ПРОДУКЦИЯ  
в 1946-1950 гг. по сравнению с 1940 г.

1913 1920 1932 1937 1940 1950

ВЫСШАЯ ПОТРЕБ. ЦЕНА  
и ПРОИЗВОДСТВО ПРОКТА

ДОХОДИ УГЛ. ИЛИ

ДОХОДИ ВОДА

ПРОИЗВ. АМОРТИЗАЦИИ  
и ВЫДАТЫ ЭЛЕКТРИЧЕСТВА

НАМИСТРОИТЕЛЬНЫЕ  
ПРОИЗВОДСТВА И РАБОТЫ

ПОВЫСИТЬ ПРОИЗВОДИТЕЛЬСТВО ВОССТАНОВЛЕНИЕ И РАЗВИТИЕ ТАМБОВСКОЙ ПРОМЫШЛЕННОСТИ И  
МЕТЕЛЛОВЕРНИКОВ. УЛУЧШИТЬ СЛУЖБУ КОТОРЫХ ВОЗМОЖНО АМЕРИКА И РУССКИЕ ВОС-  
СТАВЛЕНИЕ И РАЗВИТИЕ МЕСС-ИТАЛИЙСКОГО КОМПЛЕКСА СССР

Ответ:

Рассмотрите изображение и выполните задания 18 и 19.



**18.** Какие суждения о приведенном изображении являются верными? Выберите два суждения из пяти предложенных. Запишите в таблицу цифры, под которыми они указаны.

- 1) Плакат был создан сразу после начала Второй мировой войны.
- 2) Плакат был создан в первые дни Великой Отечественной войны.
- 3) Плакат был создан в конце 1941 г.
- 4) Одним из руководителей боевых действий советских войск в период боевых действий, которому посвящен плакат, был И.Х. Баграмян.
- 5) Одним из руководителей боевых действий советских войск в период боевых действий, которому посвящен плакат, был Г.К. Жуков.

Ответ:

19. Какие из изображений, представленных ниже, посвящены событиям того же периода Великой Отечественной войны, что и плакат, представленный в задании? В ответе запишите две цифры, которыми обозначены эти изображения.


1)



2)



3)



4)



Ответ:

Рассмотрите изображение и выполните задания 18 и 19.




**18.** Какие суждения о приведенном изображении являются верными? Выберите два суждения из пяти предложенных. Запишите в таблицу цифры, под которыми они указаны.

- 1) Плакат был создан в первые дни Великой Отечественной войны.
- 2) Плакат был создан в 1942 г.
- 3) Одним из руководителей боевых действий советских войск в период боевых действий, которому посвящен плакат, был И.Х. Баграмян.
- 4) Одним из руководителей боевых действий советских войск в период боевых действий, которому посвящен плакат, был К.К. Рокоссовский.
- 5) Следствием событий, которым посвящен плакат, стало начало коренного перелома в ходе Великой Отечественной войны.

Ответ:

**19.** Какие из изображений, представленных ниже, посвящены событиям того же периода Великой Отечественной войны, что и плакат, представленный в задании? В ответе запишите две цифры, которыми обозначены эти изображения.



Ответ:



Рассмотрите изображение и выполните задания 18 и 19.




**18.** Какие суждения о приведенном изображении являются верными? Выберите два суждения из пяти предложенных. Запишите в таблицу цифры, под которыми они указаны.

- 1) Картина посвящена событию первых дней Великой Отечественной войны.
- 2) Картина посвящена событию первой половины 1943 г.
- 3) Одним из руководителей боевых действий советских войск в сражении, которому посвящена картина, был Л.А. Говоров.
- 4) Одним из руководителей боевых действий советских войск в сражении, которому посвящена картина, был Н.Ф. Ватутин.
- 5) Следствием сражения, которому посвящена картина, стало завершение коренного перелома в ходе Великой Отечественной войны.


Ответ: 

--	--

19. Какие из изображений, представленных ниже, посвящены событиям того же года Великой Отечественной войны, что и картина, представленная в задании? В ответе запишите две цифры, которыми обозначены эти изображения.



1)



2)



3)



4)

Ответ:

Ответ:

Рассмотрите изображение и выполните задания 18 и 19.




**18.** Какие суждения о приведенном изображении являются верными? Выберите два суждения из пяти предложенных. Запишите в таблицу цифры, под которыми они указаны.

- 1) Плакат был создан в первые дни Великой Отечественной войны.
- 2) Плакат был создан во второй половине 1943 г.
- 3) Одним из руководителей боевых действий советских войск в период боевых действий, которому посвящен плакат, был К.Е. Ворошилов.
- 4) Следствием событий, которым посвящен плакат, стало освобождение Левобережной Украины от фашистских захватчиков.
- 5) Следствием событий, которым посвящен плакат, стало освобождение Правобережной Украины от фашистских захватчиков.

Ответ:

19. Какие из изображений, представленных ниже, посвящены событиям того же года Великой Отечественной войны, что и плакат, представленный в задании? В ответе запишите две цифры, которыми обозначены эти изображения.



Ответ:

Рассмотрите изображение и выполните задания 18 и 19.



18. Какие суждения о приведенном изображении являются верными? Выберите два суждения из пяти предложенных. Запишите в таблицу цифры, под которыми они указаны.

- 1) Фотография была сделана в первые дни Великой Отечественной войны.
- 2) Фотография была сделана во второй половине 1943 г.
- 3) Одним из руководителей боевых действий советских войск в ходе операции, которой посвящена фотография, был К.К. Рокоссовский.
- 4) Операция, в результате которой был освобожден Минск, носила название «Багратион».
- 5) Операция, в результате которой был освобожден Минск, носила название «Уран».

Ответ: 

--	--


19. Какие из изображений, представленных ниже, посвящены событиям того же года Великой Отечественной войны, что и плакат, представленный в задании? В ответе запишите две цифры, которыми обозначены эти изображения.



1)



2)



3)



4)

Ответ:

Рассмотрите изображение и выполните задания 18 и 19.




**18.** Какие суждения о приведенном изображении являются верными? Выберите два суждения из пяти предложенных. Запишите в таблицу цифры, под которыми они указаны.

- 1) Плакат был создан во второй половине 1943 г.
- 2) Плакат был создан во второй половине 1944 г.
- 3) Союзниками СССР в период боевых действий, которому посвящен плакат, были США и Великобритания.
- 4) Руководителем СССР в период боевых действий, которому посвящен плакат, был Н.С. Хрущев.
- 5) Следствием событий, которым посвящен плакат, стало вступление Болгарии в войну на стороне Германии.

Ответ: 

--	--


19. Какие из изображений, представленных ниже, посвящены событиям того же периода Великой Отечественной войны, что и плакат, представленный в задании? В ответе запишите две цифры, которыми обозначены эти изображения.



1)



2)



3)



4)

Ответ:



Рассмотрите изображение и выполните задания 18 и 19.




**18.** Какие суждения о приведенном изображении являются верными? Выберите два суждения из пяти предложенных. Запишите в таблицу цифры, под которыми они указаны.

- 1) Плакат был создан во второй половине 1944 г.
- 2) Плакат был создан в первой половине 1945 г.
- 3) Следствием событий, которым посвящен плакат, стало вступление Швеции в войну на стороне Германии.
- 4) СССР в период боевых действий, которому посвящен плакат, стал обладателем ядерного оружия.
- 5) Союзниками СССР в период боевых действий, которому посвящен плакат, были США и Великобритания.

Ответ:

19. Какие из полководцев, чьи изображения представлены ниже, командовали войсками фронтов, осуществивших операцию, которой посвящен плакат, представленный в задании? В ответе запишите две цифры, которыми обозначены эти изображения.



Ответ:

Рассмотрите изображение и выполните задания 18 и 19.




**18.** Какие суждения о приведенном изображении являются верными? Выберите два суждения из пяти предложенных. Запишите в таблицу цифры, под которыми они указаны.

- 1) Карикатура появилась во время Великой Отечественной войны.
- 2) Карикатура относится к началу периода «холодной войны».
- 3) Карикатура посвящена научной дискуссии второй половины 1940-х гг. по проблемам экономики в СССР.
- 4) Руководителем СССР в период появления карикатуры был Н.С. Хрущев.
- 5) Карикатура относится ко времени установления «железного занавеса» между Западной и Восточной Европой.

Ответ:

19. Какие из карикатур, представленных ниже, появились в тот же исторический период, что и карикатура, представленная в задании? В ответе запишите две цифры, которыми обозначены эти изображения.



Ответ:

Рассмотрите изображение и выполните задания 18 и 19.



18. Какие суждения о приведенном изображении являются верными? Выберите два суждения из пяти предложенных. Запишите в таблицу цифры, под которыми они указаны.

- 1) Карикатура появилась во время Великой Отечественной войны.
- 2) Карикатура относится к началу периода «холодной войны».
- 3) Карикатура посвящена научной дискуссии по проблемам экономики в СССР.
- 4) Руководителем СССР в период, когда появилась карикатура, был И.В. Сталин.
- 5) Карикатура относится ко времени максимального сближения между Западной и Восточной Европой.

Ответ:

19. Какие из изображений, представленных ниже, появились в тот же исторический период, что и карикатура, представленная в задании? В ответе запишите две цифры, которыми обозначены эти изображения.

1)  2)



3)  4)



Ответ:

Рассмотрите изображение и выполните задания 18 и 19.



**18.** Какие суждения о приведенном изображении являются верными? Выберите два суждения из пяти предложенных. Запишите в таблицу цифры, под которыми они указаны.

- 1) Мероприятие, которому посвящен плакат, проводилось во время Великой Отечественной войны.
- 2) Плакат относится к периоду «холодной войны».
- 3) Мероприятие, которому посвящен плакат, проводилось в СССР во время индустриализации.
- 4) Руководителем СССР в период, когда проводилось мероприятие, которому посвящен плакат, был Н.С. Хрущев.
- 5) Мероприятие, которому посвящен плакат, проводилось в СССР во время коллективизации.

Ответ:

19. Какие из марок, представленных ниже, появились в то же десятилетие, что и плакат, представленный в задании? В ответе запишите две цифры, которыми обозначены эти изображения.

1)



2)



3)



4)



Ответ:



Рассмотрите изображение и выполните задания 18 и 19.




18. Какие суждения о приведенном изображении являются верными? Выберите два суждения из пяти предложенных. Запишите в таблицу цифры, под которыми они указаны.

- 1) Мероприятие, которому посвящена марка, проводилось во время Великой Отечественной войны.
- 2) Мероприятие, которому посвящена марка, проводилось в СССР во время индустриализации.
- 3) Мероприятие, которому посвящена марка, проводилось в период «оттепели».
- 4) Руководителем СССР в период, когда появилась представленная марка, был Н.С. Хрущев.
- 5) Мероприятие, которому посвящена марка, проводилось в период «застоя».

Ответ:

19. Какие из фильмов, афиши которых представлены ниже, были сняты в то же десятилетие, когда произошел съезд, которому посвящена марка, представленная в задании? В ответе запишите две цифры, которыми обозначены эти изображения.



Ответ:

Рассмотрите изображение и выполните задания 18 и 19.




**18.** Какие суждения о приведенном изображении являются верными? Выберите два суждения из пяти предложенных. Запишите в таблицу цифры, под которыми они указаны.

- 1) Изображенный на фотографии государственный деятель руководил СССР во второй половине 1950-х — начале 1960-х гг.
- 2) Изображенный на фотографии государственный деятель заявил о возможности построения коммунизма в СССР к 1980 году.
- 3) Изображенный на фотографии государственный деятель инициировал начало переговоров об объединении ГДР и ФРГ.
- 4) Изображенный на фотографии государственный деятель инициировал начало переговоров о всеобщем ядерном разоружении.
- 5) После смерти изображенного на фотографии государственного деятеля в его честь был переименован один из крупных городов СССР.

Ответ: 

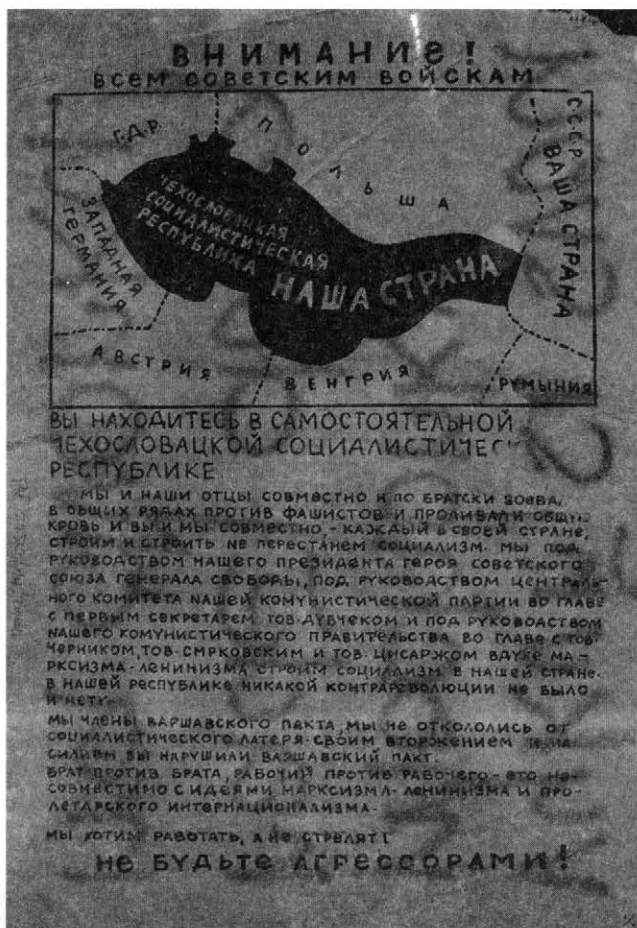
--	--

19. Какие из исторических личностей, представленных ниже, входили в «антипартийную группу» в период, когда руководителем СССР был государственный деятель, чье фото представлено в задании? В ответе запишите две цифры, которыми обозначены эти изображения.



Ответ:

Рассмотрите изображение и выполните задания 18 и 19.



18. Какие суждения о приведенном изображении являются верными? Выберите два суждения из пяти предложенных. Запишите в таблицу цифры, под которыми они указаны.

- 1) Событие, которому посвящена листовка, произошло во время Великой Отечественной войны.
- 2) Событие, которому посвящена листовка, произошло в 1956 г.
- 3) Событие, которому посвящена листовка, произошло во второй половине 1960-х гг.
- 4) Событие, которому посвящена листовка, произошло во второй половине 1970-х гг.
- 5) Руководителем СССР в период, когда появилась представленная листовка, был Л.И. Брежнев.

Ответ:

19. Какие из марок, представленных ниже, были выпущены в то же десятилетие, в котором появилась листовка, представленная в задании? В ответе запишите две цифры, которыми обозначены эти изображения.



Ответ:

Рассмотрите изображение и выполните задания 18 и 19.






**18.** Какие суждения о приведенном изображении являются верными? Выберите два суждения из пяти предложенных. Запишите в таблицу цифры, под которыми они указаны.

- 1) Изображенное на фото мероприятие проводилось участниками движения диссидентов.
- 2) Изображенное на фото мероприятие проводилось в защиту евреев, пытавшихся выехать из СССР в Израиль.
- 3) Движение, участники которого изображены на фото, возникло в СССР в середине 1950-х гг.
- 4) Движение, участники которого изображены на фото, возникло в СССР в середине 1980-х гг.
- 5) В изображенном на фото здании размещалось посольство Израиля.

Ответ: 

--	--

19. Какие из исторических личностей, представленных ниже, были видными участниками движения, одно из мероприятий которого представлено на фото в задании? В ответе запишите две цифры, которыми обозначены эти изображения.



Ответ:



Рассмотрите изображение и выполните задания 18 и 19.





**18.** Какие суждения о приведенном изображении являются верными? Выберите два суждения из пяти предложенных. Запишите в таблицу цифры, под которыми они указаны.

- 1) Изображенный на фотографии государственный деятель руководил СССР во второй половине 1960-х — начале 1980-х гг.
- 2) Изображенный на фотографии государственный деятель заявил о возможности построения коммунизма в СССР к 1990 году.
- 3) Изображенный на фотографии государственный деятель инициировал начало переговоров об объединении ГДР и ФРГ.
- 4) Изображенный на фотографии государственный деятель подписал с США договор об ограничении противоракетной обороны.
- 5) После смерти изображенного на фотографии государственного деятеля в его честь был переименован один из крупных городов СССР.

Ответ:

19. Какие из исторических личностей, представленных ниже, входили в число руководителей государства в период, когда во главе СССР был государственный деятель, чье фото представлено в задании? В ответе запишите две цифры, которыми обозначены эти изображения.



Ответ:

Рассмотрите изображение и выполните задания 18 и 19.



**18.** Какие суждения о приведенном изображении являются верными? Выберите два суждения из пяти предложенных. Запишите в таблицу цифры, под которыми они указаны.

- 1) Изображенный на фотографии государственный деятель руководил СССР в первой половине 1980-х гг.
- 2) Изображенный на фотографии государственный деятель заявил о возможности построения коммунизма в СССР к 2000 году.
- 3) Изображенный на фотографии государственный деятель инициировал начало переговоров об объединении СССР и Болгарии.
- 4) Изображенный на фотографии государственный деятель подписал с США договор об ограничении стратегических наступательных вооружений (ОСНВ-1).
- 5) После смерти изображенного на фотографии государственного деятеля в его честь был переименован один из городов СССР.

Ответ: 

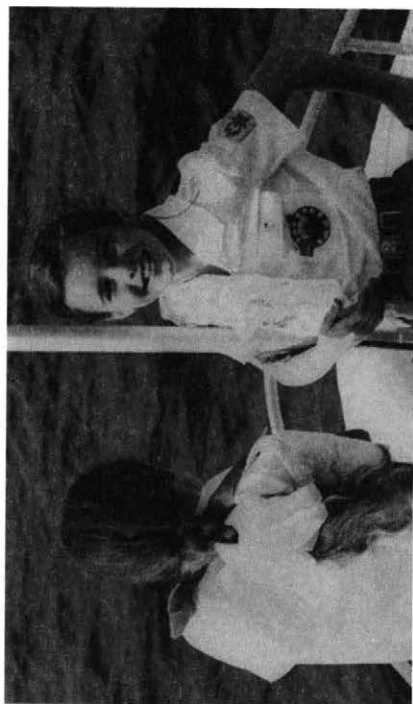
--	--

**19.** Какие из исторических личностей, представленных ниже, стали широко известны в СССР, когда во главе страны был государственный деятель, чье фото представлено в задании? В ответе запишите две цифры, которыми обозначены эти изображения.

1)



2)



3)



4)



Ответ:

*Рассмотрите изображение и выполните задания 18 и 19.*



**18.** Какие суждения о приведенном изображении являются верными? Выберите два суждения из пяти предложенных. Запишите в таблицу цифры, под которыми они указаны.

- 1) Изображенный на фотографии государственный деятель руководил СССР в первой половине 1980-х гг.
- 2) Изображенный на фотографии государственный деятель заявил о возможности построения коммунизма в СССР к 2000 году.
- 3) После смерти изображенного на фотографии государственного деятеля в его честь были переименованы два города в СССР.
- 4) Изображенный на фотографии государственный деятель способствовал объединению ГДР и ФРГ.
- 5) Изображенный на фотографии государственный деятель инициировал начало переговоров о возобновлении сотрудничества СССР и Китая.

Ответ:

19. Какие из изображений, представленных ниже, посвящены событиям, произошедшим в период, когда во главе СССР был государственный деятель, чье фото представлено в задании? В ответе запишите две цифры, которыми обозначены эти изображения.

1)



2)



3)




4)



Ответ:

Рассмотрите изображение и выполните задания 18 и 19.



**18.** Какие суждения о приведенном изображении являются верными? Выберите два суждения из пяти предложенных. Запишите в таблицу цифры, под которыми они указаны.

- 1) Изображенный на фотографии государственный деятель руководил СССР в первой половине 1980-х гг.
- 2) Изображенный на фотографии государственный деятель заявил о возможности предоставления каждой семье в СССР отдельной квартиры к 2000 году.
- 3) Изображенный на фотографии государственный деятель инициировал начало переговоров о возобновлении сотрудничества СССР и Югославии.
- 4) Изображенный на фотографии государственный деятель способствовал объединению ГДР и ФРГ.
- 5) В честь изображенного на фотографии государственного деятеля был переименован один из крупных городов СССР.

Ответ:

19. Какие из изображений, представленных ниже, посвящены процессам, происходившим в период, когда во главе СССР был государственный деятель, чье фото представлено в задании? В ответе запишите две цифры, которыми обозначены эти изображения.

1)



2)



3)




4)



Ответ:



Рассмотрите изображение и выполните задания 18 и 19.




18. Какие суждения о приведенном изображении являются верными? Выберите два суждения из пяти предложенных. Запишите в таблицу цифры, под которыми они указаны.

- 1) Изображенное на фотографии событие произошло в СССР во второй половине 1980-х гг.
- 2) Изображенное на фотографии событие было следствием землетрясения.
- 3) Изображенное на фотографии событие привело к масштабной экологической катастрофе.
- 4) Изображенное на фотографии событие ускорило развал СССР.
- 5) Изображенное на фотографии событие привело к смене руководства СССР.

Ответ:

19. Какие из изображений, представленных ниже, посвящены событиям, происходившим в то же десятилетие, когда случилось событие, запечатленное на фотографии, представленной в задании? В ответе запишите две цифры, которыми обозначены эти изображения.



Ответ:

Рассмотрите изображение и выполните задания 18 и 19.





**18.** Какие суждения о приведенном изображении являются верными? Выберите два суждения из пяти предложенных. Запишите в таблицу цифры, под которыми они указаны.

- 1) Изображенное на фотографии событие произошло в августе 1991 г.
- 2) Изображенное на фотографии событие произошло в октябре 1993 г.
- 3) Изображенное на фотографии событие привело к началу гражданской войны.
- 4) На фотографии изображены сторонники Государственного комитета по чрезвычайному положению.
- 5) На фотографии изображен первый президент Российской Федерации.

Ответ: 

--	--

19. Какие из изображений, представленных ниже, посвящены событиям, происходившим в том же году, когда случилось событие, запечатленное на фотографии, представленной в задании? В ответе запишите две цифры, которыми обозначены эти изображения.



Ответ:

*Рассмотрите изображение и выполните задания 18 и 19.*




**18.** Какие суждения о приведенном портрете являются верными? Выберите два суждения из пяти предложенных. Запишите в таблицу цифры, под которыми они указаны.

- 1) В годы руководства страной государственного деятеля, изображенного на фотографии, проводились мероприятия по борьбе с пьянством.
- 2) В годы руководства страной государственного деятеля, изображенного на фотографии, была принята новая Конституция РФ.
- 3) В период руководства страной государственного деятеля, изображенного на фотографии, был осуществлен вывод войск из Афганистана.
- 4) Государственный деятель, изображенный на фотографии, выступил инициатором политики гласности.
- 5) В годы руководства страной государственного деятеля, изображенного на фотографии, в России значительно упал уровень жизни населения.

Ответ:

19. Какие из исторических личностей, чьи изображения приведены ниже, входили в руководство страны в период, когда во главе Российской Федерации был государственный деятель, чье фото представлено в задании? В ответе запишите две цифры, которыми обозначены эти изображения.


1)



2)



3)



4)



Ответ:

*Рассмотрите изображение и выполните задания 18 и 19.*



**18.** Какие суждения о приведенном изображении являются верными? Выберите два суждения из пяти предложенных. Запишите в таблицу цифры, под которыми они указаны.

- 1) Государственный деятель, изображенный на фотографии, руководил страной в 2000–2008 гг.
- 2) Государственный деятель, изображенный на фотографии, выступил инициатором выхода России из СНГ.
- 3) В период руководства страной государственного деятеля, изображенного на фотографии, был создан Стабилизационный фонд.
- 4) Государственный деятель, изображенный на фотографии, выступил инициатором выхода России из договора по противоракетной обороне 1972 г.
- 5) В годы руководства страной государственного деятеля, изображенного на фотографии, из состава России вышли несколько субъектов.


**Ответ:**

--	--


19. Какие из изображений, представленных ниже, посвящены событиям периода руководства страной государственного деятеля, изображенного на представленном в задании портрете? В ответе запишите две цифры, которыми обозначены эти изображения.



2)



4)



Ответ:



*Рассмотрите изображение и выполните задания 18 и 19.*



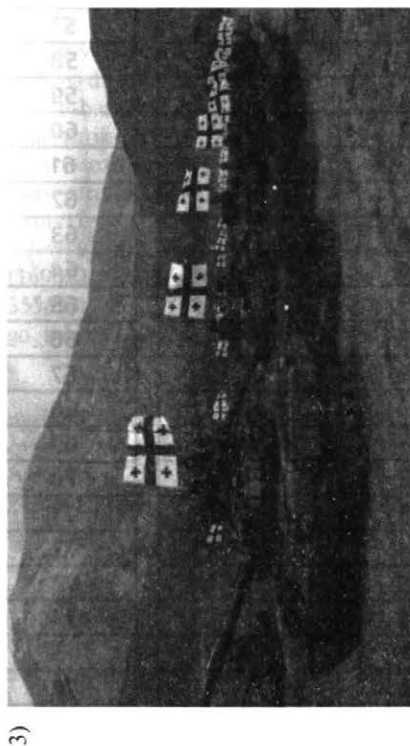
**18.** Какие суждения о приведенном изображении являются верными? Выберите два суждения из пяти предложенных. Запишите в таблицу цифры, под которыми они указаны.

- 1) Государственный деятель, изображенный на фотографии, руководил страной в 2000–2008 гг.
- 2) Государственный деятель, изображенный на фотографии, руководил страной в 2008–2012 гг.
- 3) В период руководства страной государственного деятеля, изображенного на фотографии, была создана Шанхайская организация сотрудничества.
- 4) Государственный деятель, изображенный на фотографии, выступил инициатором выхода России из договора СНВ-1.
- 5) В годы руководства страной государственного деятеля, изображенного на фотографии, Россия не препятствовала проведению военной операции НАТО в Ливии, приведшей к свержению М. Каддафи.

Ответ: 

--	--

19. Какие из изображений, представленных ниже, посвящены событиям периода руководства страной государственного деятеля, изображенного на представленном в задании портрете? В ответе запишите две цифры, которыми обозначены эти изображения.



Ответ:

## Ответы на тренировочные задания

№ варианта	№ задания	
	18	19
1	13	14
2	24	24
3	23	34
4	45	13
5	14	14
6	24	14
7	13	34
8	12	34
9	35	24
10	45	14
11	14	13
12	23	14
13	45	14
14	12	13
15	25	12
16	14	12
17	34	24
18	15	14
19	24	34
20	35	24
21	35	34
22	13	12
23	34	23
24	34	13
25	35	14
26	15	34
27	14	13
28	14	34
29	25	34
30	25	13
31	34	13
32	12	34
33	23	23
34	25	13
35	24	24
36	12	23
37	14	14
38	35	24

№ варианта	№ задания	
	18	19
39	13	14
40	12	13
41	35	12
42	14	13
43	24	24
44	13	13
45	23	34
46	15	34
47	13	24
48	14	34
49	13	14
50	23	23
51	35	12
52	15	13
53	25	12
54	45	23
55	34	24
56	23	14
57	24	34
58	15	24
59	14	14
60	15	23
61	25	24
62	35	12
63	24	14
64	14	13
65	12	24
66	24	12
67	45	24
68	35	24
69	13	14
70	14	34
71	24	24
72	34	24
73	23	14
74	25	24
75	25	12
76	25	13

№ варианта	№ задания	
	18	19
77	25	23
78	34	14
79	35	14
80	24	23
81	24	13
82	34	13
83	24	34
84	15	14
85	14	12
86	24	12
87	25	12
88	24	23
89	35	13
90	25	23
91	35	23
92	25	24
93	45	24
94	24	14
95	34	13
96	23	23
97	25	24
98	25	24
99	24	13
100	24	24
101	34	14
102	12	24
103	35	23
104	12	24
105	14	34
106	15	24
107	13	13
108	24	12
109	13	13
110	15	24
111	25	13
112	13	23
113	25	13

# ЛИТЕРАТУРА

## Учебная и монографическая литература

1. Большая книга России. — М.: АСТ: Астрель, 2006. — 2239 с.
2. Великая Отечественная война. — М.: ОЛМА Медиа Групп, 2015. — 448 с.
3. Гумилев Л.Н. От Руси до России. — М.: АСТ: Астрель, 2003. — 416 с.
4. Зайончковский А.М. Первая мировая война. — М.: Изд-во «Э», 2015. — 544 с.
5. История войн. Россия / авт.-сост. К.А. Залесский, О.В. Сухарева, А.А. Фетисов. — М.: Астрель: АСТ, 2007. — 183 с.
6. История России для детей и взрослых. — М.: Белый город, 2003. — 416 с.
7. Костомаров Н.И. Русская история в жизнеописаниях ее главнейших деятелей. — М.: АСТ: Астрель, 2005. — 608 с.
8. Россия: иллюстрированная энциклопедия. — М.: ОЛМА Медиа Групп, 2007. — 600 с.
9. Спицын Е.Ю. История России в картах, портретах и фотографиях с древнейших времен до конца XX века. — М.: Концептуал, 2016. — 288 с.
10. Шокарев С.Ю. Тайны российской аристократии. — М.: ОЛМА Медиа Групп, 2008. — 374 с.
11. Энциклопедия российских царей и императоров. Россия. IX—XX вв. — М.: РОСССА, 2014. — 288 с.

## Интернет-ресурсы

- <http://vasnecov.ru/?item=b6a1113a-e172-47f6-a987-48aa4057f984&page=0065d614-b109-4343-a3ee-a292d0bf1055&type=page>
- <http://www.tobolsk-eparhia-press.ru/prosvetitel/number.php?dat=2015.01&st=3>
- [http://www.perunica.ru/russkie\\_xudozhniki/683-boris-mixajlovich-olshanskij.html](http://www.perunica.ru/russkie_xudozhniki/683-boris-mixajlovich-olshanskij.html)
- [rushist.com/index.php/platonov-lectures/2163-knyazyaz-ryurik-oleg-igor-olga](http://rushist.com/index.php/platonov-lectures/2163-knyazyaz-ryurik-oleg-igor-olga)
- <http://hram-kupina.ru/cerkovnyj-kalendar/svyatye-ravnoapostolnye-kirill-i-mefodij/>
- [http://www.vlsobor.com/painting\\_17.html](http://www.vlsobor.com/painting_17.html)
- <http://www.hudojnik-peredvijnik.ru/ivanov-s-v/ivanov-s-v-v-smutnoe-vremya/>
- <http://histrf.ru/lenta-vremeni/event/view/pokhod-ol-ghi-v-drievlianskuiu-ziemliu-miest-ol-ghi>
- <http://www.hudojnik-peredvijnik.ru/ivanov-s-v/ivanov-s-v-baskaki/>
- [rushist.com/index.php/platonov-lectures/2163-knyazyaz-ryurik-oleg-igor-olga](http://rushist.com/index.php/platonov-lectures/2163-knyazyaz-ryurik-oleg-igor-olga)
- <http://www.hudojnik-peredvijnik.ru/ivanov-s-v/ivanov-s-v-sezd-knyazej-v-uvetichax/>
- [rushist.com/index.php/platonov-lectures/2163-knyazyaz-ryurik-oleg-igor-olga](http://rushist.com/index.php/platonov-lectures/2163-knyazyaz-ryurik-oleg-igor-olga)
- [rushist.com/index.php/tutorials/plat-tutorial/14-plat-tut-11](http://rushist.com/index.php/tutorials/plat-tutorial/14-plat-tut-11)
- [http://www.husain-off.ru/hg7n/album/7\\_vlad1/hg7-a3-vl1015-02.html](http://www.husain-off.ru/hg7n/album/7_vlad1/hg7-a3-vl1015-02.html)
- [http://vysokovo.prihod.ru/zhitija\\_svjatykh/view/id/1169022](http://vysokovo.prihod.ru/zhitija_svjatykh/view/id/1169022)
- [http://historydoc.edu.ru/catalog.asp?cat\\_ob\\_no=16355&ob\\_no=16916](http://historydoc.edu.ru/catalog.asp?cat_ob_no=16355&ob_no=16916)
- [http://sofiyskiy-sobor.polnaya.info/istoriya\\_sofiyskogo\\_sobora.shtml](http://sofiyskiy-sobor.polnaya.info/istoriya_sofiyskogo_sobora.shtml)
- [http://vladimirru.ru/Arhitect/pokrova\\_na\\_nerli.htm](http://vladimirru.ru/Arhitect/pokrova_na_nerli.htm)
- <https://cont.ws/post/338633>
- <http://opisanie-kartin.ru/bilibin-ivan/opisanie-kartiny-bilibin-ivan-sud-vo-vremya-russkoj-pravdy/>
- <http://www.hudojnik-peredvijnik.ru/ivanov-s-v/ivanov-s-v-sezd-knyazej-v-uvetichax/>
- [http://hram-troicy.prihod.ru/zhitie\\_svjatykh\\_razdel/view/id/1123953](http://hram-troicy.prihod.ru/zhitie_svjatykh_razdel/view/id/1123953)
- <http://rusplt.ru/wins/vladimir-monomah-kiev-knyaz-24395.html>
- <http://www.artsait.ru/art/k/kivshenko/art1.php>
- <http://www.artsait.ru/foto.php?art=k/kivshenko/img/13>
- <http://www.artsait.ru/foto.php?art=k/kivshenko/img/18>
- <http://www.smileplanet.ru/russia/moskva/pamyatnik-yuriyu-dolgorokomu-v-moskve/photo/>
- <http://moneta-russia.ru/coins/yubilei-gorodov-rusi/100-rublej-1997-goda-850-let-minin-i-pozharskiy/>
- [http://monetku.ru/catalog/10-rubleve-bimetallicheskie-yubileynye-monety-rossii-1999-2015/2009\\_yubileynaya\\_10\\_rublej\\_velikiy\\_novgorod\\_mnd.html](http://monetku.ru/catalog/10-rubleve-bimetallicheskie-yubileynye-monety-rossii-1999-2015/2009_yubileynaya_10_rublej_velikiy_novgorod_mnd.html)
- [http://monetku.ru/catalog/10-rubleve-bimetallicheskie-yubileynye-monety-rossii-1999-2015/2008\\_yubileynaya\\_10\\_rublej\\_smolensk](http://monetku.ru/catalog/10-rubleve-bimetallicheskie-yubileynye-monety-rossii-1999-2015/2008_yubileynaya_10_rublej_smolensk)

<http://www.russian-money.ru/Coins.aspx?type=content&id=2390>  
<http://istoricheskij-portret.ru/praviteli/ryurikovichi/andrei-bogolyubskii/>  
<http://mywishlist.ru/wish/6861765>  
[http://vladimirru.ru/Arhitect/pokrova\\_na\\_nerli.htm](http://vladimirru.ru/Arhitect/pokrova_na_nerli.htm)  
<http://sobory.ru/photo/198638>  
<http://vsdn.ru/cat/catalogue/?a=comment&pid=1941>  
[http://www.kolpynec.ru/news/kolpino\\_news/v\\_etot\\_den\\_15\\_iyulya\\_1240\\_goda\\_russkie\\_voyska\\_razbili\\_shvedov\\_v\\_nevskoy\\_bitve/](http://www.kolpynec.ru/news/kolpino_news/v_etot_den_15_iyulya_1240_goda_russkie_voyska_razbili_shvedov_v_nevskoy_bitve/)  
<http://2mir-istorii.ru/sobytiya-srednii-veka/1548-ledovoe-poboische.html>  
[http://parabellum.vzmakh.ru/n25\\_s7.shtml](http://parabellum.vzmakh.ru/n25_s7.shtml)  
<http://www.the-submarine.ru/cat/t1706/>  
<http://russia4d.ru/magazine/06-2015/srednevekove-zhiteli-staroi-ryazani-nakhodka-poslednikh-let.html>  
<http://cultobzor.ru/2015/02/pavel-chistyakov-gallery/05-1602/>  
<http://www.artsait.ru/foto.php?art=s/semiradsky/img/2>  
<http://lemur59.ru/node/9813>  
[http://www.art-portrets.ru/ivan\\_groznyy.html](http://www.art-portrets.ru/ivan_groznyy.html)  
<https://tverigrad.ru/publication/2-knyaz-dmitrij-mixajlovich-groznye-ochi-1298-1325>  
<http://opisanie-kartin.com/opisanie-kartiny-apollinariya-vasnecova-moskovskij-kreml-pri-dmitrii-donskom/>  
<http://painting.artyx.ru/books/item/f00/s00/z0000010/st039.shtml>  
<http://historicaldis.ru/blog/43155773599/Povest-o-nashestvii-hana-Tohtamyisha-i-vzyatii-im-Moskvyi>  
<http://www.artsait.ru/art/k/korovinPI/art1.php>  
[www.proza.ru/2010/05/10/13](http://www.proza.ru/2010/05/10/13)  
[klin-demianovo.ru/http://klin-demianovo.ru/analitika/48035/glavnaya-tayna-ordyinskogo-iga/](http://klin-demianovo.ru/http://klin-demianovo.ru/analitika/48035/glavnaya-tayna-ordyinskogo-iga/)  
<http://artiana.ru/painting/kivshenko-ad/16>  
<http://artiana.ru/painting/kivshenko-ad/23>  
[http://aminpro.ru/dopoln/stranic/origin/origin\\_0030.html](http://aminpro.ru/dopoln/stranic/origin/origin_0030.html)  
<http://mos-holidays.ru/granovitaya-palata/>  
<http://history-dna-genealogy.ariy.org/?id=106>  
<http://sobory.ru/photo/?photo=17554>  
<http://www.pravmir.ru/uspensky-sobor-kremla/>  
<http://runews1.ru/25-marta-1479-goda-rodilsya-vasilij-iii-ivanovich-velikij-knyaz-vladimirskij-i-moskovskij-v-1505-1533-syn-ivana-iii-velikogo-i-sofii-paleolog-otec-ivana-iv-groznogo/>  
<http://sobory.ru/photo/14805>  
<http://dic.academic.ru/dic.nsf/ruwiki/630180>  
<http://istoricheskij-portret.ru/praviteli/ryurikovichi/ivan-groznii/>  
<http://www.vokrugsveta.ru/article/203718/>  
[http://www.artcyclopedia.ru/knyaz\\_mv\\_skopin-shujskij-okolo\\_1630g-ushakov\\_simon\\_fedorovich.htm](http://www.artcyclopedia.ru/knyaz_mv_skopin-shujskij-okolo_1630g-ushakov_simon_fedorovich.htm)  
<http://uslide.ru/istoriya/12021-reformi-izbrannoy-radi-.html>  
<http://rmgallery.ru/ru/5162>  
<http://redkayakniga.ru/biblioteki/item/f00/s00/z0000012/st007.shtml>  
<http://artiana.ru/painting/kivshenko-ad/16>  
[http://houseofmylove.blogspot.ru/2011/01/blog-post\\_4017.html](http://houseofmylove.blogspot.ru/2011/01/blog-post_4017.html)  
[http://enoth.org/enc/1/16\\_3.html](http://enoth.org/enc/1/16_3.html)  
<http://artiana.ru/painting/kivshenko-ad/19>  
<http://v-himera.livejournal.com/136905.html>  
<http://encyclopedia.mil.ru/encyclopedia/history/more.htm?id=11438300@cmsArticle>  
[rushist.com/index.php/russia-children/932-pokorenie-sibiri-ermakom](http://rushist.com/index.php/russia-children/932-pokorenie-sibiri-ermakom)  
<http://gallerix.ru/album/Brullov/pic/glrx-344308471>  
<http://nearyou.ru/repin/t85ioan.html>  
<http://www.mirvremeni.ru/den-v-istorii/mart/18-march.html>  
<http://russotravel.ru/media/show/11686>  
[https://rpconline.ru/list\\_of\\_churches/Moscow/hram-hrista-spasitelya/](https://rpconline.ru/list_of_churches/Moscow/hram-hrista-spasitelya/)  
<http://russkie-tsari.ru/index.php/razdel-ii/fedor-ioannovich-1557-1598/item/36-konets-dinastii-ryurikovichej>

<http://ortorussia.livejournal.com/557903.html>  
[http://smallbay.ru/artrossia/repin\\_saporozhzy\\_pishut\\_pismo.html](http://smallbay.ru/artrossia/repin_saporozhzy_pishut_pismo.html)  
<http://ortorussia.livejournal.com/557903.html>  
<http://www.bankgorodov.ru/famous-person/Ljedmitrii-i>  
<https://ru.wikipedia.org/wiki/>  
<http://istoricheskij-portret.ru/praviteli/ryurikovichi/ivan-groznii/>  
[http://romanovi.com/foto/vasilij-shujskij/romanovi\\_com-foto-2.asp](http://romanovi.com/foto/vasilij-shujskij/romanovi_com-foto-2.asp)  
[http://www.artcylopedia.ru/knyaz\\_mv\\_skopin-shujskij\\_okolo\\_1630g-ushakov\\_simon\\_fedorovich.htm](http://www.artcylopedia.ru/knyaz_mv_skopin-shujskij_okolo_1630g-ushakov_simon_fedorovich.htm)  
[http://www.visitsmolensk.ru/all\\_articles/places/kak-zhili-smolyane-po-vremya-osady-goroda-v-xvii-veke/](http://www.visitsmolensk.ru/all_articles/places/kak-zhili-smolyane-po-vremya-osady-goroda-v-xvii-veke/)  
[http://www.hrono.ru/biograf/bio\\_m/mihail\\_fed.php](http://www.hrono.ru/biograf/bio_m/mihail_fed.php)  
<http://www.bankgorodov.ru/famous-person/Fedor-i-Ivanovich>  
<http://www.patriarchia.ru/db/text/547842.html>  
<http://www.calend.ru/person/6880/>  
<http://www.russian-goldenring.ru/Sight.aspx?id=3036>  
[https://rpconline.ru/list\\_of\\_churches/Moscow/hram-hrista-spasitelya/](https://rpconline.ru/list_of_churches/Moscow/hram-hrista-spasitelya/)  
[http://arts-order.blogspot.ru/2013/03/blog-post\\_16.html](http://arts-order.blogspot.ru/2013/03/blog-post_16.html)  
<http://sotvori-sebia-sam.ru/borba-za-svyashhenstvo-statya-2/>  
<http://www.nice-places.com/articles/russia/peterburg/664.htm>  
[http://yaroslavlru.ru/Arhitect/ilii\\_proroka.htm](http://yaroslavlru.ru/Arhitect/ilii_proroka.htm)  
[http://artclassic.edu.ru/catalog.asp?ob\\_no=22075&cat\\_ob\\_no=12523](http://artclassic.edu.ru/catalog.asp?ob_no=22075&cat_ob_no=12523)  
<http://all-russia-history.ru/salt-riot-foto-1>  
<http://www.mmsk.ru/notes/note/?id=48550>  
<http://lingvostranovedcheskiy.academic.ru/rushist.com/index.php/ilovajskij-5/1600-mednyj-bunt-1662-goda>  
<http://lingvostranovedcheskiy.academic.ru/rushist.com/index.php/ilovajskij-5/1467-pereyaslavskaya-rada-1654-goda>  
<http://lingvostranovedcheskiy.academic.ru/rushist.com/index.php/russia/1814-solovetskoe-vosstanie-1668-1676>  
[http://www.art-portrets.ru/utro\\_streletskoy\\_kazni.html](http://www.art-portrets.ru/utro_streletskoy_kazni.html)  
<http://vsdn.ru/museum/catalogue/exhibit10061.htm>  
<http://opisanie-kartin.com/>  
<http://www.pravmir.ru/smutnoe-vremya-v-15-kartinah-russkih-hudozhnikov/vvromanov.shpl.ru/page6.html>  
<http://vvromanov.shpl.ru/page6c.html>  
<http://iamruss.ru/sozhzhenie-protopopa-avvakuma/>  
<http://www.posprikaz.ru/2016/03/na-dolzности-pravitelya-zhenshhina-dolzna-pozabyt-cto-ona-zhenshhina/>  
[http://www.krugosvet.ru/enc/istoriya/IVAN\\_V\\_ALEKSEEVICH.html](http://www.krugosvet.ru/enc/istoriya/IVAN_V_ALEKSEEVICH.html)  
[http://demo.sde.ru/file1.php/demo/ohist\\_lite/data/311/text.html](http://demo.sde.ru/file1.php/demo/ohist_lite/data/311/text.html)  
<https://www.sedmitza.ru/text/407609.html>  
<http://aria-art.ru/0/P/Pjotr%20I/3.html>  
<http://aria-art.ru/0/P/PjotrI/4.html>  
<http://encyclopedia.mil.ru/encyclopedia/history/more.htm?id=12066672@cmsArticle>  
[ordenf.ru/rf/orden-svyatogo-georgiya.php](http://ordenf.ru/rf/orden-svyatogo-georgiya.php)  
[https://www.simvolika.org/project02\\_08.htm](https://www.simvolika.org/project02_08.htm)  
<http://nagrada.moscow/list.php?mode=full&id=176>  
[http://newauction.ru/offer/dengi\\_vzjaty\\_borodovoj\\_znak\\_god\\_bukvami- i15234865776333.html](http://newauction.ru/offer/dengi_vzjaty_borodovoj_znak_god_bukvami- i15234865776333.html)  
[fb.ru/article/226222/gangutskoe-morskoe-srajenie-god-opisanie-prichiny-istoriya-i-posledstviya](http://fb.ru/article/226222/gangutskoe-morskoe-srajenie-god-opisanie-prichiny-istoriya-i-posledstviya)  
<http://ejikz.livejournal.com/61732.html>  
<https://regnum.ru/pictures/1996053/10.html>  
<http://flot.com/images/pic-gren.jpg>  
<http://www.battle.poltava.ua/images/poltavarmessen.jpg>  
[anthropolgames.ucoz.ru/forum/76-169-1](http://anthropolgames.ucoz.ru/forum/76-169-1)  
<http://www.battle.poltava.ua/images/narva1704.jpg>  
<http://www.liveinternet.ru/users/taniaum/post301673884/>  
<http://www.liveinternet.ru/users/5153342/post304932428>

[https://www.simvolika.org/project02\\_08.htm](https://www.simvolika.org/project02_08.htm)  
<http://www.kidly.ru/besedy-o-iskusstve/nikolaj-nikolaevich-ge-petr-i-doprashivaet-carevicha-alekseya-v-petergofe.html>  
<http://vkrym.su/page/80>  
<http://www.bibliotekar.ru/rusRomanov/5.htm>  
<http://www.bankgorodov.ru/famous-person/menshikov-fleksandr-danilovich>  
[vestarchive.ru/genealogiia/1471-admiral-ff-yshakov-arhivnye-dokumenty-protiv-legend.html](http://vestarchive.ru/genealogiia/1471-admiral-ff-yshakov-arhivnye-dokumenty-protiv-legend.html)  
[http://istoriarusi.ru/imper/suvorov\\_aleksandr\\_vasilevich.html](http://istoriarusi.ru/imper/suvorov_aleksandr_vasilevich.html)  
[russia.rutut.ru/dostoprimechatelnosti-rossii/dostoprimechatelnosti-sankt-peterburga/petropavlovskij-sobor](http://russia.rutut.ru/dostoprimechatelnosti-rossii/dostoprimechatelnosti-sankt-peterburga/petropavlovskij-sobor)  
<https://www.hermitagemuseum.org/wps/portal/hermitage/explore/buildings/locations/building/B10/?lng=ru>  
[http://www.spb-rf.ru/peterghof\\_dvorets.htm](http://www.spb-rf.ru/peterghof_dvorets.htm)  
<http://www.wonderfulnature.ru/Admiralty.php>  
<http://www.liveinternet.ru/tags/>  
<http://gid-po-peterburgu.ru/index.php/sightseengs/sankt-peterburg/63-zdaniya-senata-i-sinoda>  
<http://www.ilovepetersburg.ru/content/prospekt-gosudarstvennykh-kollegii-i-staryi-gostinyi-dvor>  
<http://www.gopiter.ru/piter/helpinfo/dostopr/building/1680/>  
<https://ria.ru/spravka/20150208/1046356163.html>  
[http://istoriarusi.ru/imper/suvorov\\_aleksandr\\_vasilevich.html](http://istoriarusi.ru/imper/suvorov_aleksandr_vasilevich.html)  
[http://hrono.ru/biograf/bio\\_o/osterman\\_ai.php](http://hrono.ru/biograf/bio_o/osterman_ai.php)  
<http://photosflowery.ru/petr-2-foto.html>  
<http://www.stihi.ru/2016/02/14/2414>  
<http://korabley.net/news/2008-12-25-100#>  
[http://retrobazar.com/journal/izvestnye-ljudi/625\\_rossijskie-imperator-petr-ii.html](http://retrobazar.com/journal/izvestnye-ljudi/625_rossijskie-imperator-petr-ii.html)  
<http://slavyanskaya-kultura.ru/slavic/history/severnaja-voyna-baltiiskii-revansh-i-rozhdenie-rossiiskoi-imperii.html>  
<http://www.liveinternet.ru/users/5813750/rubric/6030512/>  
[http://www.hrono.ru/biograf/bio\\_g/gorchakov\\_am.php](http://www.hrono.ru/biograf/bio_g/gorchakov_am.php)  
[http://hrono.ru/biograf/bio\\_o/osterman\\_ai.php](http://hrono.ru/biograf/bio_o/osterman_ai.php)  
<http://aria-art.ru/0/A/Anisimov%20E.%20Zhenshiny%20na%20rossijskom%20prestole/2.html>  
<http://interneturok.ru/istoriya-rossii/8-klass/rossiyskaya-imperiya-pervoy-chetverti-xix-veka/vneshnyaya-politika-aleksandra-i-v-1813-1825-gg?seconds=0>  
<http://rossiya7.narod.ru/Ros3-3.html>  
[historylost.ru/2016/03/11/zhenskiy-vek/](http://historylost.ru/2016/03/11/zhenskiy-vek/)  
[http://yarko.webasyst.net/shop/products\\_pictures/0002rt0g\\_enl.jpg](http://yarko.webasyst.net/shop/products_pictures/0002rt0g_enl.jpg)  
<http://tsarselo.ru/photos/photo23125.html>  
<http://www.nearyou.ru/rokotov/rosm/lomonos.html>  
[http://portret.ucoz.ru/publ/vlijanie\\_portretov\\_na\\_tvorchestvo/portret\\_barklaja\\_de\\_tolli/2-1-0-21](http://portret.ucoz.ru/publ/vlijanie_portretov_na_tvorchestvo/portret_barklaja_de_tolli/2-1-0-21)  
<http://www.rodon.org/art-080804141939>  
<http://www.nearyou.ru/levitsk/2ek.html>  
<http://www.nearyou.ru/antropov/antr-eliz1.html>  
<http://www.palitra.co/post/643>  
[literatura5.narod.ru/perov\\_pugachov.html](http://literatura5.narod.ru/perov_pugachov.html)  
<http://www.nearyou.ru/borovik/2pavel1.html>  
<http://www.nearyou.ru/argunov/argun07.html>  
<http://vestarchive.ru/genealogiia/1471-admiral-ff-yshakov-arhivnye-dokumenty-protiv-legend.html>  
<http://territa.ru/photo/898-0-63674>  
[http://architect.dovidnyk.info/index.php/arhitektory/dzhakomokvaryengi/79-smol\\_nyj\\_institut](http://architect.dovidnyk.info/index.php/arhitektory/dzhakomokvaryengi/79-smol_nyj_institut)  
[http://www.hellopiter.ru/The\\_isaakievskiy\\_cathedral.html](http://www.hellopiter.ru/The_isaakievskiy_cathedral.html)  
<http://webstarco.narod.ru/19vek/big/prjanishnikov12.html>  
<http://virtualrm.spb.ru/ru/node/11927>  
<http://www.tanais.info/art/vereshchagin32more.html>  
<http://vsdn.ru/museum/catalogue/exhibit1073.htm>  
<http://dic.academic.ru/dic.nsf/ruwiki/33364>

<http://dic.academic.ru/dic.nsf/ruwiki/55446>  
<http://rushist.com/index.php/russia/2654-speranskij-mikhail-mikhajlovich-kratkaya-biografiya>  
[http://otkritka-reprodukcija.blogspot.ru/2008/01/blog-post\\_20.html](http://otkritka-reprodukcija.blogspot.ru/2008/01/blog-post_20.html)  
<http://www.liveinternet.ru/users/3251944/post246705327/>  
<http://megabook.ru/article/>  
[http://www.runivers.ru/gal/gallery-all.php?ELEMENT\\_ID=461017&SECTION\\_ID=7085](http://www.runivers.ru/gal/gallery-all.php?ELEMENT_ID=461017&SECTION_ID=7085)  
<http://opisanie-kartin.com/opisanie-kartiny-ivana-ajvazovskogo-sinopskij-boj/>  
<http://www.liveinternet.ru/users/4768613/post319033551>  
<http://encyclopedia.mil.ru/encyclopedia/history/more.htm?id=12066672@cmsArticle>  
<http://gallerix.ru/album/200-Russian/pic/glr-603475952>  
<http://medalirus.ru/za-otlichie/userd-osvobozhdenie-krestyan.php>  
<http://www.mirnograd.ru/cgi-bin/exinform.cgi?page=40&ppage=2>  
<http://xix-vek.ru/material/item/f00/s00/z0000008/st001.shtml>  
<http://ilya-repin.ru/other/repin7.php>  
<http://veresh.ru/balkany/1.php>  
[http://www.hellopiter.ru/Monument\\_to\\_alexander\\_iii.html](http://www.hellopiter.ru/Monument_to_alexander_iii.html)  
[https://artchive.ru/artists/567-Ilja\\_Efimovich\\_Repin/works/32984](https://artchive.ru/artists/567-Ilja_Efimovich_Repin/works/32984)  
<http://rushist.com/index.php/russia/2654-speranskij-mikhail-mikhajlovich-kratkaya-biografiya>  
[http://muzei-mira.com/kartini\\_russkih\\_hudojnikov/1010-portret-konstantina-petrovicha-pobedonosceva-ilya-efimovich-repin.html](http://muzei-mira.com/kartini_russkih_hudojnikov/1010-portret-konstantina-petrovicha-pobedonosceva-ilya-efimovich-repin.html)  
<http://www.liveinternet.ru/users/4021226/post293120202/>  
<http://www.hudojnik-peredvijnik.ru/makovskij-v-e/makovskij-v-e-9-yanvarya-1905-goda-na-nasilevskom-ostrove/>  
<http://nashe-nasledie.livejournal.com/1207641.html>  
<https://topwar.ru/8642-russko-yaponskaya-voyna-plakaty-rossii.html>  
<http://propaganda-journal.net/5964.html>  
<http://cyclowiki.org/wiki>  
<http://sokura.livejournal.com/8743551.html>  
<http://moskvapark.naidich.ru/novopeschani/picbig/92plakat.htm>  
<http://www.davno.ru/posters/>  
<http://redavantgarde.com/collection/show-collection/1407/print/>  
[https://yandex.ru/images/search?img\\_url=http%3A%2F%2Fcp12.nevsepic.com.ua%2F58%2F1353698390-0518554-](https://yandex.ru/images/search?img_url=http%3A%2F%2Fcp12.nevsepic.com.ua%2F58%2F1353698390-0518554-)  
<http://www.ote4estvo.ru/lichnosti-xx/1650-trockiy-lev-davidovich.html>  
<http://ilya-repin.ru/science/repin12.php>  
<http://gallerix.ru/storeroom/1973977528/N/934354374/>  
<http://www.liveinternet.ru/users/stewardess0202/post382067066/>  
<http://www.davno.ru/posters/>  
<https://regnum.ru/pictures/2098200/39.html>  
<http://gym6.narod.ru/3/63/bre.htm>  
<http://aloban75.livejournal.com/996943.html>  
<http://gallerix.ru/storeroom/1973977528/N/582215675/>  
<http://opisanie-kartin.com/opisanie-sovetskogo-plakata-pyom-vodu-rodnogo-dnepra/>  
[http://pamyat1945.ucoz.ru/publ/zhivopis\\_o\\_vojne/legendarnyj\\_marshall\\_zhukov\\_glazami\\_raznykh\\_khudozhnikov/2-1-0-13](http://pamyat1945.ucoz.ru/publ/zhivopis_o_vojne/legendarnyj_marshall_zhukov_glazami_raznykh_khudozhnikov/2-1-0-13)  
<https://yandex.ru/images/search?text>  
<https://sovtime.ru/rulers/malencov>  
[http://www.hrono.info/biograf/bio\\_zh/zheljabov\\_ai.php](http://www.hrono.info/biograf/bio_zh/zheljabov_ai.php)  
<http://www.st-dialog.ru/magazin/217-slava-pervomu-kosmonavtu-yu-a-gagarinu/>  
<http://opisanie-kartin.com/opisanie-sovetskogo-plakata-bam-strojka-veka/>  
[http://leonidbrezhnev.ucoz.ru/photo/zhivopisnye\\_portrety\\_1\\_i\\_brezhneva/4](http://leonidbrezhnev.ucoz.ru/photo/zhivopisnye_portrety_1_i_brezhneva/4)  
<http://photochronograph.ru/2013/10/04/sobytiya-3-4-oktyabrya-1993-goda/>  
<http://vakin.livejournal.com/1164201.html>  
<http://history.sgu.ru/?wid=428>



**ЕАЭС**

*Учебное издание*



**ТАТЬЯНА ВИКТОРОВНА РЯЗАНОВА,  
ОЛЕГ ГЕННАДЬЕВИЧ РЯЗАНОВ**

## **ИСТОРИЯ**

### **Работа с иллюстративным материалом Пособие для подготовки к ЕГЭ**

**Под редакцией С.А. МАРКИНА**

Ответственный редактор

*С. А. Осташов*

Технический редактор

*Л. А. Багрянцева*

Формат 70×100/16. Бум. офсетная.

Печать офсетная. Усл. п. л. 19,35

Тираж 3000 экз. Зак. № 696

ООО «Феникс»

344011, Россия, Ростовская обл.,

г. Ростов-на-Дону, ул. Варфоломеева, 150

Тел./факс: (863) 261-89-50 (доб. 119), 261-89-75 (доб. 119)

Сайт издательства: [www.phoenixrostov.ru](http://www.phoenixrostov.ru)

Интернет-магазин: [www.phoenixbooks.ru](http://www.phoenixbooks.ru)

Изготовлено в России. Дата изготовления: 12.2017.





Изготовитель: ООО «Издательство Вперед»

Место нахождения: 296500, Россия, Республика Крым,

г. Саки, ул. Первомайская, д. 14

Фактический адрес: 295047, Россия, Республика Крым,

г. Симферополь, ул. Узловая, 12




 **ЕНИКС**

ISBN 978-5-222-29290-7



9 785222 292907

 **phoenix\_book**